

2020 重庆市选调生应届优秀大学毕业生 到基层工作考试 《行政职业能力测验》试卷

真题来源于考生回忆和网络搜集

重要提示:

为维护您的个人权益, 确保公务员考试的公平公正, 请您协助我们监督考试实施工作。

本场考试规定: 监考老师要向本考场全体考生展示题本密封情况, 并邀请 2 名考生代表验封签字后, 方能开启试卷袋。

条形码
粘贴处

请将此条形码揭下,
贴在答题卡指定位置

联系电话 023-88287377

官方网站 <http://www.leenjy.com>

沙坪坝沙龙汇文化广场三楼(小龙坎地铁站 1 号出口前行 100 米)



专注于公职考试培训

乐恩公考

第一部分 常识判断 (共 15 题, 参考时限 10 分钟)

根据题目要求, 在四个选项中选出一个最恰当的答案。

请开始答题:

- 2020 年 5 月, 在第十三届全国人民代表大会第三次会议上, 国务院总理李克强向大会做了政府工作报告, 下列表述中错误的是()。
 - 这次新冠肺炎疫情是新中国成立以来我国遭遇的传播速度最快、感染范围最广、防控难度最大的重大突发公共卫生事件
 - 没有提出全年经济增速具体目标
 - 提出重点支持加强新型基础设施建设, 加强新型城镇化建设, 加强交通、水利等重大工程建设的“两新一重”建设
 - 为抵御疫情对经济的冲击, 要实施积极的财政政策和积极的货币政策
- 2019 年 4 月, 习近平总书记在重庆主持召开解决“两不愁三保障”突出问题座谈会时强调, 到()年稳定实现农村贫困人口不愁吃、不愁穿, 义务教育、基本医疗、住房安全有保障。
 - 2020
 - 2021
 - 2022
 - 2023
- 根据《中华人民共和国香港特别行政区维护国家安全法》, 中央人民政府在香港特别行政区设立()。
 - 维护国家安全委员会
 - 维护国家安全公署
 - 维护国家安全局
 - 维护国家安全部队
- 《中华人民共和国民法典》是一部适应新时代中国特色社会主义发展要求, 符合我国国情和实际, 体例科学、结构严谨、规范合理、内容完整并协调一致的法典。民法典共分为 7 编, 其中不包括()。
 - 物权编
 - 人格权编
 - 劳动关系编
 - 继承编
- 下列关于化学元素应用的描述, 错误的是()。
 - 铂可用于汽车尾气的净化
 - 铯可用于制作原子钟
 - 氩在焊接中常被作为助燃剂
 - 硅广泛应用于集成电路制造
- 截止 2020 年 6 月底, 新冠肺炎疫情累计确诊病例最多的国家是()。
 - 美国
 - 巴西
 - 印度
 - 英国
- 下列关于数字经济的说法, 哪项是错误的? ()

- A. 数字经济是实现资源快速优化配置与再生、实现经济高质量发展的经济形态
- B. 数字经济广泛依托于互联网、云计算、区块链、物联网等信息技术
- C. 数字经济正成为推动重庆经济增长和社会发展的重要引擎
- D. 数字经济时代，大数据将消除个体差异，成就元化的经济体系
8. 2015 年 7 月 31 日，北京携手张家口获得 2022 年冬奥会举办权。这是中国历史上第一次举办冬季奥运会，北京将成为奥运史上第一个举办过夏奥会和冬奥会的城市。亚洲第一个主办冬奥会的城市是()。
- A. 北京
- B. 札幌
- C. 首尔
- D. 索契
9. 以下哪一项的作者与其他三项的作者不在同一个朝代? ()
- A. 文章千古事，得失寸心知
- B. 不识庐山真面目，只缘身在此山中
- C. 春风又绿江南岸，明月何时照我还
- D. 生当作人杰，死亦为鬼雄
10. ①中国第一艘核潜艇下水；
②中国第一颗人造卫星发射成功；
③中国第一颗原子弹爆炸成功；
④中国第一颗导弹发射成功。
上述事件按照发生的时间顺序排序正确的一项是()。
- A. ④③②①
- B. ③②①④
- C. ③④②①
- D. ①③②④
11. 歌剧是一门西方舞台表演艺术，简单而言就是主要或完全以歌唱和音乐来交代和表达剧情的戏剧，它源自古希腊戏剧的剧场音乐。而中国的歌剧则以()的问世为诞生标志。
- A. 《小小画家》
- B. 《白毛女》
- C. 《刘三姐》
- D. 《运河谣》
12. 1929 年，中国共产党红四军第九次党代表大会通过的《关于纠正党内的错误思想》成为中国共产党及其领导的人民军队建设的纲领性文件。这次会议史称()。
- A. 八七会议
- B. 遵义会议
- C. 古田会议
- D. 瓦窑堡会议
13. 下列景点与所处省份对应正确的是()。
- A. 玉门关—甘肃
- B. 雁门关—河北
- C. 剑门关—山西
- D. 山海关—山东
14. 在下列自然科学成就中，影响远远超越其学科范围，扩展到社会和经济思想领域，并对中国近代民主思想产生了重要影响的是()。

A. 量子论

B. 经典力学

C. 相对论

D. 进化论

15. 小明在厨房炒菜时油锅突然起火了, 这时小明所采取的做法错误的是()。

A. 迅速用灭火毯盖住油锅

B. 用大量水将火浇灭

C. 迅速用锅盖盖住油锅

D. 将切好的蔬菜沿油锅边缘倒入锅内

第二部分 言语理解与表达 (共 30 题, 参考时限 25 分钟)

本部分包括表达与理解两方面的内容。请根据题目要求, 在四个选项中选出一个最恰当的答案。

请开始答题:

16. 家中_____的藏书和频繁造访的文学界人士, 是她踏上文学之路的启蒙, 而严肃理性与唯美浪漫并重的家庭教育, 则培养她从小具备独立人格与深刻思想。

填入画横线部分最恰当的一项是()。

A. 俯拾皆是

B. 浩如烟海

C. 鳞次栉比

D. 寥若星辰

17. 在认识世界和改造世界的过程中, 旧的问题解决了, 新的问题又会产生, 同时各方面体制、机制总是需要不断完善, 因而改革不可能_____。

填入画横线部分最恰当的一项是()。

A. 一无所获

B. 一挥而就

C. 一劳永逸

D. 一气呵成

18. 一直以来, 我国文化产业发展方式比较粗放, 存在战略规模宏大而实现路径模糊以及生产成本高、附加值低等问题。从长远看, _____依靠资源投入来实现发展, 必然会影响到文化发展的质量和效益。因此, 实行_____经营, 不仅是转变文化产业发展方式的题中应有之义, 还是提高文化产业发展水平的必由之路。

依次填入画横线部分最恰当的一项是()。

A. 过渡集约化

B. 过度集约化

C. 适当规模化

D. 充分规模化

19. 马克思曾说: “社会不是以法律为基础的。那是法学家们的幻想。相反地, 法律应该以社会为基础。法律_____社会共同的、由一定物质生产方式所产生的利益和需要的表现, _____单个的个人恣意横行。”

依次填入画横线部分最恰当的一项是()。

- A. 应该是而不是
B. 即便是也是
C. 与其是不如是
D. 不仅是还是

20. 春天万物复苏，面对烂漫春光，有人在“红杏枝头”_____春意，于“拂堤杨柳”陶醉氤氲春雾，有人却_____词不达意，停留在“哇”“超赞”的简单感叹。尽管众人眼中的景色“远近高低各不同”，但网络语言风靡、文化内涵缺失的现象，不经意间影响着越来越多人的日常交流和情感表达。

依次填入画横线部分最恰当的一项是()。

- A. 欣赏理屈词穷
B. 体味张口结舌
C. 品味语竭词穷
D. 鉴赏无言以对

21. 眼中的人工智能似乎麻烦不少。研究界对底层技术缺乏突破的争论，产业界对商业应用未达预期的质疑，再加上前段时间“人工智能代表性应用”自动驾驶出现了几次事故等，把人工智能产业推上了_____在一些领域，人工智能应用推进的难度超乎意料。然而，每一次对技术关键点的攻关，也都是突破的机会。技术的突破常常是_____。只有积累到一定阶段，才可能带动质变，迎来整体的爆发。此前的艰难之处，如同破晓之前。

依次填入画横线部分最恰当的一项是()。

- A. 风口浪尖厚积薄发
B. 刀山火海韬光养晦
C. 龙潭虎穴韬光养晦
D. 悬崖峭壁厚积薄发

22. 社交媒体巨头自称将_____地保护个人隐私，为此不惜与美国政府_____这些公司的做法一度得到了公众的支持。现在，如果新的证据表明，外国曾利用社交媒体影响2016年美国大选，那么，互联网巨头处理用户数据的方式将再度遭受质疑。

依次填入画横线部分最恰当的一项是()。

- A. 全心全意当面对质
B. 不遗余力对簿公堂
C. 倾巢而出当面对质
D. 倾巢而出对簿公堂

23. 有风有雨是_____，风雨无阻是_____，风雨兼程是_____。今天的中国，正经历成长的风雨。“莫听穿林打叶声，何妨吟啸且徐行”，无论什么样的风雨，都无法阻挡中国人民奔向美好生活的脚步。

依次填入画横线部分最恰当的一项是()。

- A. 正态 常态 心态
B. 心态 状态 正态
C. 常态 心态 状态
D. 状态 正态 常态

24. 用“_____”精准捕捉扶贫协作点，以“_____”精准诊断对口帮扶点。拿“_____”精准瞄向持续发展点，方能打赢脱贫攻坚战，实现全面小康。

依次填入画横线部分最恰当的一项是()。

- A. 望远镜 放大镜 显微镜
B. 望远镜 显微镜 放大镜
C. 放大镜 望远镜 显微镜

D.放大镜 显微镜 望远镜

25. 文艺创作需要个性，_____。缺乏理性的所谓艺术个性往往格调不高，不过是个人意气或情绪宣泄。想以此引领时代，那必定文不对题。因为还没有达到那个艺术和思想高度，不具备那个资格。我们说个性是艺术的生命，但缺乏理性的个性就是偏执、没有真正艺术价值，哗众取宠一时可以，注定不能传之久远。

填入画横线部分最恰当填人画横线部分最恰当的一项是（ ）

- A. 但文艺创作更需要理性
- B. 因为艺术个性能够提升格调
- C. 个性创作才能引领时代
- D. 这是真正艺术价值所在

26. 人们熟闻种种“尬 x”，“尬”字究竟为何意，却并非尽人皆知。若以为“尬”就是“尴尬”之意，_____。以“尬舞”为例。这里的“尬”是一个动词，意为“比赛、较量”。“尬舞”的本源是“较舞”，闽南语中比拼舞技的意思。闽南语中将“较”读作 ga，在内地引用、传播时，许多人知其音却不知其字，便索性找了一个同音字代替，造出“尬舞”一词，却未曾想，新造的词居然火遍大江南北。

填入画横线部分最恰当的一项是（ ）。

- A. 那就泛化了“尬”的含义
- B. 显然窄化了“尬”的含义
- C. 则强化“尬”本来的含义
- D. 实则曲解了“尬”的含义

27. 对下面 6 个句子语序排列正确的一项是（ ）。

- ① 对于任何一个民族文化而言
- ② 人类历史的前进
- ③ 方能获得文化补偿
- ④ 拥有文化输出与文化接受的健全机制
- ⑤ 离不开文化的交流融合
- ⑥ 赢得空间上的拓宽和时间上的延展

- A. ①④③⑥②⑤
- B. ②⑤①④⑥③
- C. ②⑤①④③⑥
- D. ①④⑥③②⑤

28. 下列各句中，没有语病的一句是（ ）

- A. 现在医学发达，移植记忆也许不是完全可能的事
- B. 一部文学作品具有强大的生命力在于能否为读者奉上丰富、新颖、优质的精神食粮
- C. 在金融危机席卷全球的用势下，广大出口加工型企业只有大力开拓国内外市场，学会内销与外销两条腿走路，才能逐步完善企业销售网络，实现自救
- D. 当代大众文化以其消道娱乐作用满了了人的感性需要，从而在定程度上解决了理性的压神，因此具有某种历史的合理性

29. 所谓“黑箱”就是指那些既不能打开，又不能从外部直接现察其内部状态的系统，比如人的大脑只能通过信息的输入和输出来确定其结构和参数。

通过这句话我们不能推导出（ ）。

- A.黑箱的定义
- B.黑箱的参数
- C.人的大脑就是黑箱
- D.黑箱可以通过信息的输入和输出来确定参数

30.健康类 App 主要分为四种。健康数据管理类 App: 通过用户健康数据输入评测, 并记录每天的饮食、运动、生活规律等数据, 测评其未来健康状况并提出些改善建议, 为用户定制方案, 规划行动。健康信息咨询类 App: 对用户健康数据进行管理, 使用户从健康传播来获得自己想要的健康信息, 输入体征数据进行自诊, 也可以在线向专家进行问诊等。健康方式养成类 App: 主要包括饮食类 App 和体育锻炼类 App 是针对日常饮食以及运动开发出的软件应用。问诊类 App: 可以实现一对一的个性化健康管理, 但需支付一定的费用, 在中国普及率极低。

根据这段文字可知, 不正确的项是 ()

- A.健康数据管理类 App 可以帮助用户测评其未来健康状况
- B.相较于其他健康类 App:问诊类 App 更适合用户的需求
- C.健康信息咨询类 App 可以帮助用户进行自诊
- D.健康方式养成类 App 主要包括饮食类 App 和体育锻炼类 App

31. 细胞膜作为一个屏障, 使细胞内液成分不完全相同于细胞外液, 并保持相对稳定。但是, 细胞在进行新陈代谢的过程中, 需要不断选择性地摄入和排出多种多样的物质, 这些物质的交换是通过细胞膜有选择性地进行的。物质通过细胞膜的运输途径大体是:脂溶性的小分子物质, 可通过物理扩散透过细胞膜;水溶性的小分子物质或离子, 需要借助相关蛋白质的介导才能完成跨膜运输;大分子物质或颗粒性物质, 则通过细胞膜的整装转运进出细胞。

根据题意, 接下来最有可能阐述的是 ()。

- A.细胞膜的分类
- B.蛋白质的介导原理
- C.物质跨膜运输的障碍
- D.新陈代谢中的物质交换

32.看不清东西几乎是老年人的普遍现象, 由于眼睛疾病造成看不清的原因主要有4种:老花眼、飞蚊症、白内障、眼底黄斑疾病。但是, 看不清东西, 不都是眼睛的问题。单眼或双眼一过性视力下降或丧失, 医学上称“一过性黑矇”, 多数是因供应眼球的脑动脉缺血造成的, 常见于短暂性脑缺血病人。复视患者单眼视线清晰, 但双眼看东西尤其向某方向看时, 出现双影或重影, 不排除脑梗死、脑出血、脑肿瘤、糖尿病神经病变、重症肌无力等原因。双眼视物不全的人, 表现为只能看到视野内一部分, 比如吃饭时总有半碗碗内剩有饭粒, 这种情况常见于脑肿瘤病人, 需及早诊治。

根据文段内容, 作者意在强调 ()。

- A.看不清东西不定是眼睛的问题
- B.“一过性黑矇”是老年人的常见问题
- C.脑肿瘤是导致视线模糊的重要原因
- D.眼睛疾病往往跟脑部因素紧密相关

33.最近许多城市对形象提出了所谓高标准的要求, 最为典型的案例就是连街道店铺的门面和招牌都要统一标准。这种做法已经遭到了社会舆论的诟病。其实游客一般选择在城市的什么地方留影拍照, 最能够说明问题。我想没有人愿意在地产商开发的居民楼或者大

的购物中心拍照吧，毕竟这些地方全世界几乎都一样。拍照选择的景点最多的是历史和文化遗迹，当然还有特色景观和建筑，甚至包括广场。很多人到欧洲，喜欢在欧洲城市街区拍照，原因是建筑的风格和街区的文化特征的丰富多样性，使自己流连忘返。这些建筑，包括街区形象的文化特色，都是建立在个性化风格组合的基础之上，经过千百年的洗礼，给予了我们最好的视觉享受。

根据文段内容，作者意在强调（ ）

- A.城市建设应当注重文化视觉效果
- B.旅游拍照当选择历史和文化遗迹
- C.应大力推崇特色的历史文化遗迹
- D.城市形象管理要尊重个性化选择

34.三国魏晋南北朝期间，虽然也有较安定的时候，但毕竟很短暂，社会动乱是主流，士人也像普通人一样把保命作为第一要务，诸葛亮说的“苟全性命于乱世，不求闻达于诸侯”颇有代表性。而竹林七贤、兰亭雅士，则是当生命稍有保障时便抓紧时间享乐的典型代表。乱世的残酷现实与求生的强烈愿望交织促进人性的觉醒，士人感觉到纯粹本我更重要，所以属于角色意识的土节被淡化了。

画线文句想表达的意思是（ ）。

- A.在乱世里保全好自己的性命，并努力为诸侯建功立业
- B.在面对复杂局面以及危难的时候，要沉得住气，不要急于出头
- C.在乱世里保全好自己的性命，不去打听诸侯的事
- D.在乱世里好好享乐，保全好自己的性命，不追求在诸侯中做官扬名

35.现在我深刻理解了“文学源于生活而高于生活”这句话是什么意思，文章都有个主题，但是生活没有。生活不是写文章，能提炼出一个中心思想，最后还要总结升华，生活真的只是一个过程而已。不过我仍旧怀揣美好的希望，希望在未来的某天，能为我珍藏的好故事找到一个好的主题。

从这段文字中我们可以看出，作者认为“生活的主题”（ ）。

- A.高于文章的主题
- B.是文学主题的原
- C.是自己寻求的一种期望
- D.是对生活过程的提炼和升华

36.河南安阳新发现一处金代砖雕壁画高。这是豫北地区第一次发现金代高僧墓葬。考古发掘显示，该墓为仿木结构八边形单室砖墓，南北向，墓道向南，墓葬全长9.35米，由墓道、墓门、甬道及墓室等组成。墓室平面呈八边形，北壁、西壁和东壁各砌有一个耳室，耳室内共放置了四件陶罐，里面装有火化后的骨灰。结合出土的墓志，考古人员判断骨灰分属于四名高僧。据介绍，这处墓葬的壁画独具特色。墓室的西北、西南、东北和东南均绘制有彩绘，其中童子启门图和行医图尤为罕见。根据记载，该墓为金代“正隆四年”（1159）相州洪福寺文殊院院主洪论为几位高僧修建。专家表示，墓纪年明确，设计独特，墓志内容丰富，保存完整的壁画真实地反映金代人们的宗教信仰、求医问药、社会生活形态等，具有重要的历史和艺术价值。

以下说法与文段内容相符的是（ ）。

- A.这是豫北地区首次发现的高僧墓葬
- B.墓室主人是洪福寺文殊院院主洪论
- C.童子启门图是该墓壁画的独特设计

D.墓志内容表明四名高僧皆擅长行医

37.澳大利亚的一项新研究发现，内陆河流支流的不良水质，尤其是洪灾后水中的废弃物、地表沉积物和营养污染物等流进海水后，将使白化珊瑚自愈速度变缓，且更容易遭到病害侵袭。如将内陆河流支流水质改善 6% 至 17%，很可能会减少近海地区珊瑚白化现象。澳大利亚海洋学研究所、澳大利亚研究理事会珊瑚礁研究项目中心、阿德莱德大学等机构的研究人员在 1995 年至 2017 年期间，采集了大堡礁 46 个地点的珊瑚覆盖数据，以评估热带气旋、疾病暴发和珊瑚白化对珊瑚礁所造成的影响，同时还检测了珊瑚从损害中自我修复的情况。不过研究人员也提示，仅改善地区水质并不能保护对海水温度敏感的热敏珊瑚。近年来，澳大利亚东北沿海的大堡礁珊瑚出现大规模白化连象。除气候变化引起的海洋温度变化外，大堡礁还面临海洋污染、过度捕捞等威胁。

以下说法与文段内容不符的是（ ）。

- A.改善地区水质有助于白化珊瑚自愈
- B.海洋温度变化是大堡礁珊瑚白化的重要原因
- C.内陆河流的污染是珊瑚礁受到的最大威胁
- D.不良水质容易使白化珊瑚遭受疾病侵害

38.畅游时爽，淹溺转瞬间。炎炎夏日，不少人喜欢到江、河、水塘里游泳，总是有人“一去不回”。洲水事故频发的背后既有安全设施不足、监管缺位，也有漠视规则和安全常识缺乏。一个人的生命只有一次，生命安全高于“切。江河湖泊、水塘水库水渠旁边的警示牌不只是善意的提醒，更是不可逾越的红线。只有安全意识“浮上来”，生命才不会“沉下去”。

最适合做这段文字标题的是（ ）。

- A.夏日溺水事故频发
- B.只有安全意识“浮上来”，生命才不会“沉下去”
- C.生命安全高于一切
- D.游泳不可逾越警示牌

39.《2017 年中国互联网络安全报告》提到，我国网络空间法治进程进入新时代，网络反诈工作正在持续推进，但“钓鱼网站”域名注册向境外转移，“网络武器库”泄露后风险威胁凸显，诈勒索和“挖矿”等牟利、恶意攻击事件数量大幅增长，应用软件供应链安全问题触发连锁反应。由此可推知，作者接下来最可能谈及的内容是（ ）。

- A.如何推进网络安全工作
- B.加快网络空间法治进程
- C.网络安全问题存在的原因
- D.持续推进网络反诈工作

【该段文字适用于 40-41 题】

如今，在不少城市的大型商场，书店几乎成了“标配”。它既可以是逛商场购物的人们中场休息的“加油站”，也可以是去商场观影、聚餐的人们打发零散时间的等候区，甚至也常成为部分人逛街的目的地。一些书店品牌随之兴起，在一地或多地商场连锁办店，和电影院等一道成为知名的“时尚”门面。

书店与商场结合成为“标配”，其实也是最近几年才盛行起来的，但立身于人气旺盛的地带，却是它早已享受过的待遇。许多人的少年、青年记忆中都有一家在城市中心地带、备受关注的书店。所以，如今书店在这些大型商场的出现，看起来好像只是一次“重回”也

只是看起来其实，“重回”的过程中，已经经历深刻变化。实体书店的衰落，一度成为人们为之焦虑的话题。且不去论人们阅读方式变化这样的大背景，单是网上书城的兴起，就对实体书店形成了巨大的冲击。论成本，实体书店偏向于在人流密集、交通便利地段开店、多了一笔不小的房租开支；论配送获得强大物流加持的网上书城已能做到高效送货到家；论价格与书目的丰富，因为客源覆盖面广容量超大，网上书城与实体书店相比，更有压倒性的优势……许多实体书店因为客流萎缩、收入锐减，先是逐渐搬家，改开在房租便宜的地方，接着又往往因此陷入客流更少的循环，最终关张。

40. “对“重回的过程中，已经经历深刻化”理解最恰当的一项是()。

- A. 书店与商场结合成为“时尚”
- B. 实体书店遭遇了巨大冲击
- C. 人们阅读的时间、地点发生了变化
- D. 书店的样式更加多元化

41. 根据文段内容，接下来最有可能阐述的是()。

- A. 实体书店遭遇的冲击
- B. 实体书店“重回”后的主要形态
- C. 网上书城的发展优势
- D. 实体书店“重回”的原因

【该段文字适用于 42-43 题】

我们强调优秀文艺作品与生命体验的关系，并不是将这种关系_____，而是将创作者从固有的生命体验中解放出来，鼓励创作者不断拓展生命体验，将更多的时代经验纳入其中。每一个个体都处于一定的社会关系与社会结构之中，其生命体验必定受到个体的局限。时代变化超出个人熟悉的经验与想象，我们如果不能打开生命体验的边界，便只能_____无从理解和展现这个时代。

艺术创新不一定能够创作出精品，但创作精品一定离不开艺术创新。20世纪80年代以来很多创作者热衷于创新，但大多只是形式、技巧与叙述方式上的创新。真正的创新来自表达的“刚需”，即现有的艺术方法与艺术形式已经无法表现创作者要表达的内容，创作者在表达的过程中自然而然就会创造出新的艺术形式与方法。契夫的戏是这样、鲁迅的《野草》是这样，许多现代主义经典作品也是这样。

当谈及“盛唐气象”，我们会想到李白、杜甫、王维等；当谈及“魏晋风度”，我们会想到“竹林七贤”等。正是这些经典作家作品，直接凸显了一个时代的个性与气质。对于一个创作者来说，能否创作出精品乃至创作出代表一个时代的经典，既取决于个人主观努力，也取决于其创作追求与时代精神的契合程度。可以说，精品创作面临着诸多理论与实践上的问题，需要我们做出深入细致的梳理与分析。

42. 依次填入画横线部分最恰当的一项是()。

- A. 通俗化革故鼎新
- B. 神秘化抱残守缺
- C. 通俗化萧规曹随
- D. 神秘化自我作古

43. 根据文段内容，接下来最不可能做出“深入细致的梳理与分析”的是()。

- A. “精品”与观众“刚需”的关系
- B. “精品”与艺术创新的关系

- C. “精品”与时代精神的关系
 D. “精品”与创作者主体性的关系

【该段文字适用于 44-45 题】

人工智能近些年的快速发展与行业人才的需求特点，导致人工智能人才出现了巨大缺口。据数据显示，中国人工智能人才缺口已超过 500 万。巨大的人才缺下，高校的人工智能人才教育不能缺位。但中国人工智能人才的教育现状并非无可挑剔就目前来看，中国缺乏顶尖的人工智能人才。国际人工智能协会评选出的 208 位院士中，中国籍仅占 4 席不仅如此，中国高校还缺乏相应的人工智能师资力量。目前，全球人工智能领域在整体上存在人才匮乏的现状，大约只有 10 万人工智能人才。近些年来，受到企业高薪、大数据研究条件等因素影响，高校中人工智能师资的流失率不断增加。据研究报告显示，全球共有超过 360 所具有人工智能研究方向的高校，其中美国拥有近 170 所，中国仅 30 多所。虽然一些中国高校开设了相关课程，但总体上缺乏人工智能的基础教学能力，在独自培养具有动手能力的应用型人才上有所欠缺。随着人工智能站上风口，相关人才成为企业争夺的焦点，科大讯飞董事长刘庆峰表示，人工智能领域确实存在人才短缺的问题，导致造成中国目前人工智能人才的工资比硅谷、英国要高很多人工智能发展作为国家战略，必须人才先行。

44. 最适合做文段标题的是()。
- A. 人工智能人才缺口巨大
 B. 中美人工智能人才的差异
 C. 高校人工智能师资流失严重
 D. 企业是人工智能人才最主要的聚集地
45. 对于高校人工智能师资短缺的原因，以下理由不符合原文意思的是()。
- A. 高校人工智能师资薪酬低
 B. 高校的人工智能课程应用性不足
 C. 人工智能人才总体缺口大
 D. 企业拥有更好的大数据研究条件

第三部分 数量关系

(共 15 题，参考时限 15 分钟)

本部分包括两种类型的试题：

数字推理：下列各题均是根据某种规律排列的数列，并缺少其中一项或两项，请仔细观察每一数列规律，选出你认为正确的答案。本部分共 5 题，每题 1 分。

请开始答题

46. $1/2, 5/12, 1/3, 14, ()$
- A. $1/5$ B. $1/6$ C. 17 D. $1/8$
47. 26, 4, 23, 6, 20, 8, (), 14, 12
- A. 22, 16 B. 16, 10 C. 16, 12 D. 17, 10
48. 2, 3, 10, 15, 26, ()
- A. 35 B. 36 C. 37 D. 38

49. (4, 12), (8, 6), (16, 3), (12, X)。X 应为()

A. 2 B. 4 C. 6 D. 8

50. $1/2, 2/3, 3/8, 2/15, ()$

A. $1/30$ B. $4/7$ C. $5/144$ D. $7/271$

数字运算:计算下列各题,选出你认为正确的答案。本部分共 10 题,每题 1 分。请开始答题

51. 一公路沿线顺次有甲、乙、丙、丁、5 个仓库,相邻仓库间隔 100 千米。甲仓库有 10 吨货物,乙仓库有 20 吨货物,仓库有 40 吨货物,其余两个仓库无货物。现在准备把所有货物集中到个仓库里,如果每吨货物运输成本是每千米 1 元运费,那么运费最少是()元。

A. 9000 B. 10000 C. 11000 D. 12000

52. 从重庆到北京的某列高铁中途要经过 11 个站,这列高铁要准备()种不同的车票。

A. 66 B. 78 C. 55 D. 67

53. 乒乓球比赛的规则是五局三胜制,甲、乙两球员的胜率分为 60%和 40%,在一次比赛中,若甲先连胜了前面两局,则甲最后获胜的概率是()。

A. 60% B. 在 81%85%之间 C. 在 86%~90%之间 D. 在 91%以上

54. 一批零件,小王单独做需要 50 天加工完,小李单独做需要 75 天加工完。为了尽快完成任务,两人合作加工零件,中间小李休息了几天,最后共用了 40 天把这批零件加工完,那么小李休息了()天。

A. 25 B. 3 C. 20 D. 15

55. 甲乙两人分别以不同速度在周长为 500 米的环形跑道上跑步,甲的速度是 180 米/分钟。若两人从同一地点同时出发,反向跑步,75 秒时第一次相遇若两人保持各自的速度从同一地点同时出发同向而行,那么乙第一次追上甲时跑的圈数是()。

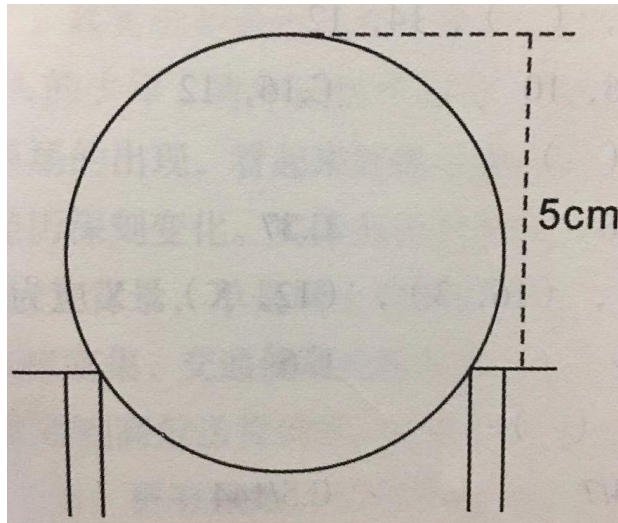
A. 5 B. 5.5 C. 6 D. 6.5

56. 某办公室 7 人中有三人精通德语。如果从中任意选出 3 人,其中恰有 1 人精通德语的概率是()

A. 0.514 B. 0.623 C. 0.544 D. 0.675

57. 工厂有一种测量中孔工件内径的方法,就是用半径为 R 的钢珠放在圆柱形内孔上,只要测

得钢珠顶端与工件顶端面之间的距离 X,就可以求出工件内孔径(如右图所示)。已知 $X=5\text{cm}$, $R=3\text{cm}$,那么该工件内径的直径是()。



- A. $2\sqrt{5}$ cm B. $\sqrt{5}$ cm C. $\sqrt{10}$ cm D. 4cm

58. 某美容美发店有两位理发师，现同时来了5位有不同理发需求的顾客，他们分别需要10分钟、12分钟、15分钟、20分钟和24分钟，那么5人全部理完最少要()

- A. 38分钟 B. 42分钟 C. 46分钟 D. 49分钟

59. 某种细菌在培养过程中，每20分钟分裂一次(一个分裂成2个)，经过2小时，这种细菌由3个分裂成()个。

- A. 64 B. 96 C. 192 D. 381

60. 某大学生利用课余时间开网店销售某种服装，才开始销售时知名度不高。为了吸引顾客，就按原定售价打对折销售。一段时间后，生意红火起来，他悄悄地加价14.5元出售。一段时间后他发现顾客又少了，于是又降价2.5元以96.4元出售。已知他当初原定售价是在进货价上加40.5元，那么这种服装的进货价是()。

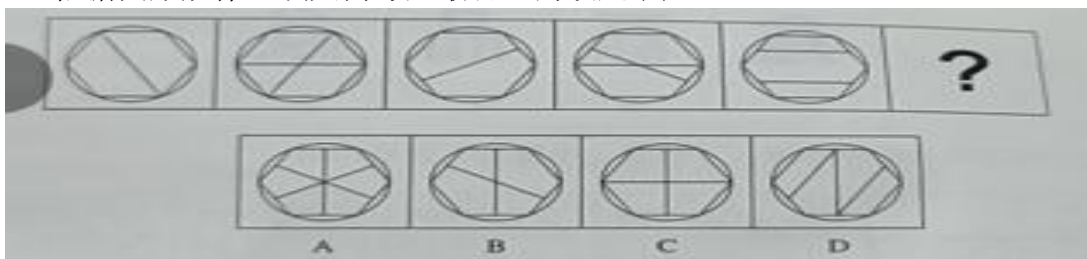
- A. 128.65元
B. 64.15元
C. 168.8元
D. 128.3元

第四部分 判断推理 (共30题，参考时限25分钟)


一、图形推理. 请按每道题的答题要求作答。

请开始答题：

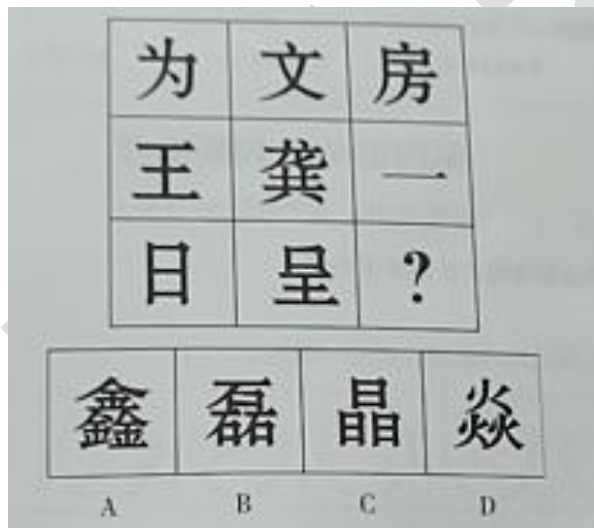
61. 依据图形规律，填入问号处最合适的一项是()。



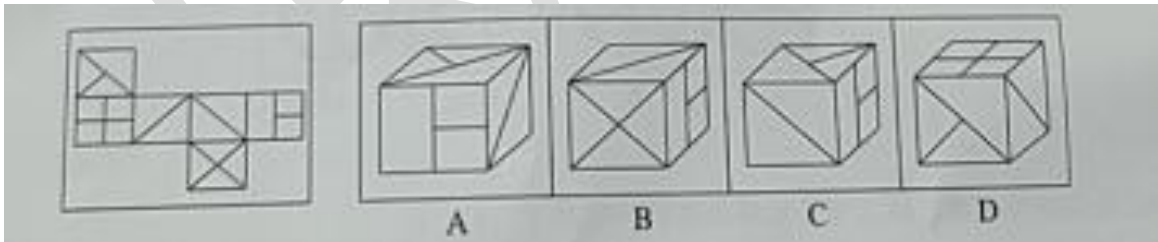
62. 根据图形规律，填入问号处最合适的一项是()。



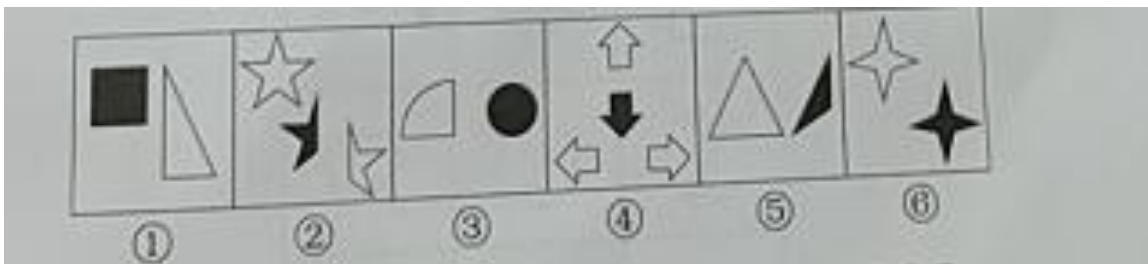
63. 根据图形规律，填入问号处最合适的一项是()。



64. 左边给定的是纸盒的外表面，下列哪项能由它折叠而成？()



65. 把下面六组图形分成两类，使每一类都有各自的共同特征或规律，分类正确的一项是()。



A. ①④⑤, ②③⑥

- B. ①③⑥, ②④⑤
C. ①③⑤, ②④⑥
D. ①②③, ④⑤⑥

二、定义判断。每道题先给出定义,然后列出四种情况,要求你严格依据定义,从中选出一个最符合或最不符合该定义的答案。注意:假设这个定义是正确的,不容置疑的。

请开始答题:

66. 重大飞行事故罪,是指航空人员违反规章制度,因而发生重大飞行事故,危及公共安全,造成严重后果的行为。

根据上述定义,下列行为属于重大飞行事故罪的是()。

- A. 某航空公司飞行员邀请“网红”进入驾驶舱就座。“网红”在驾驶舱拍摄的照片在微博引起热议,当事飞行员被处以终身禁飞
- B. 某客机四目的地机场下大雨,不适合降落,被迫在临近机场降落,结果导致乘客延误时间6小时
- C. 飞行员违反航空管理的有关规定,在未看见跑道的情况下,违规操纵飞机实施看陆,致使飞机着火坠毁
- D. 恐怖分子劫持客机,导致客机坠毁

67. 罗森塔尔效应,亦称“皮格马利翁效应”“人际期望效应”,是一种社会心理效应,指的是教师对学生的殷切希望能戏剧性地收到预期效果的现象。

根据上述定义,下列不属于罗森塔尔效应的是()。

- A. 某小学年级学生小明期末考试考了双百分,父母非常高兴,带他去上海迪士尼尽情玩了一周,以资鼓励,希望他再接再厉。果然不出父母所望,第二学期期末考试小明又考了双百分
- B. 某小学班主任在选择班干部时,把学习成绩作为重要标准,期望这些班干部能带动班上其他学生的学习积极性。一年以后,这些班干部的成绩继续在班上名列前茅
- C. 一名研究者根据某小学的学生名册随机挑选了一些名字组成了一份“最有发展前途者”名单,并以赞许的口吻将其交给了校长和相关老师。一年后,该研究者再次对该小学的学生进行调查,结果显示,名单上的学生成绩都有了较大进步,且都有着很强的求知欲
- D. 罗尔斯从小顽皮、逃课、打架、斗殴,无所事事,令人头疼。有一次,当罗尔斯从窗台上跳下时,被校长保罗看见了,校长不但没有责备他,反而对他说:“我看就知道,你将来是纽约州的州长。校长的话对他的震动特别大。从此,罗尔斯记下了这句话,并在51岁那年成为纽约州州长

68. 湿垃圾,是指生活垃圾中在自然条件下容易分解的有机物质部分,其主要来源为家庭厨房、餐厅、饭店、食堂、市场及食品加工企业等。

根据上述定义,以下属于湿垃圾的是()。

- A. 蛤蜊壳
B. 塑料袋
C. 瓜子壳
D. 口香糖

69. 反事实推理又称反事实思维,是指对过去已经发生的事实进行否定而重新表征,以建构一种可能性假设的思维活动。反事实推理在头脑中是以条件命题的形式表现出来的,包括前提和结果两个部分,其典型形式为:如果当时...就会不会....

根据上述定义，以下诗句明确表达了反事实推理的是()。

- A. 若非群玉山头见，会向瑶台月下逢
- B. 东风不与周郎便，铜雀春深锁二乔
- C. 从今若许闲乘月，拄杖无时夜叩门
- D. 忽见陌头杨柳色，悔教夫婿觅封侯

70. 智能投顾是指利用大数据分析、量化模型和算法，根据投资者的个人收益和风险偏好提供匹配的资产组合建议，并自动完成投资交易过程，再根据市场变化情况动态调整，让组合始终处于最优状态的财富管理服务。

根据上述定义，下列属于智能投顾的是()。

- A. 甲把上个月的工资 8000 元借给朋友解燃眉之急
- B. 乙为低风险偏好者，购买了银行 App 为其推荐的保本型理财产品
- C. 丙因为预算有限，从银行贷款购买了一辆价值 12 万的小轿车
- D. 丁利用信用卡分期付款买了一部苹果手机

三、逻辑判断. 每道题给出一段陈述，这段陈述被假设是正确的，不容置疑的。要求你根据这段陈述，选择一个答案。

请开始答题：

71. “只有努力才能成功，只有成功才能得到他人的尊重。

如果上述断定为真，那么以下哪项一定为真？()

- A. 如果不成功，那么一定没有努力
- B. 如果得到他人尊重了，那么一定努力了
- C. 如果没有得到他人的尊重，那么一定没有成功
- D. 如果成功了，一定会得到他人尊重

72 到安徽旅游过的一名游客说过：“不到黄山，不算游过安徽；不去西递宏村，白来黄山。根据这句话，以下最能推出的结果是()。

- A. 游黄山，只要去西递宏村就行了
- B. 西递宏村集中了安徽最精华的自然景观
- C. 游黄山，最令人难忘的是西递宏村
- D. 游安徽，应该先去西递宏村

73. 某次数学考试之后，班长跑去向老师打听成绩，老师给了他如下三个结果，并且告诉他，在这三个结果中只有一个是真的。

- (1) 有的同学考试成绩不及格。
- (2) 有的同学考试成绩及格了。
- (3) 数学科代表考试成绩不及格。

以下哪个选项一定为真？()

- A. 只有数学科代表的考试成绩及格了
- B. 数学科代表的考试成绩不及格
- C. 班上所有同学的考试成绩都及格了
- D. 班上所有同学的考试成绩都不及格

74. 如果选购了股票，则不能投资期货；只有投资期货，才能投资邮票；或者投资邮票，或者投资外汇；但是最近投资外汇风险太大，不能操作。

据此，可以推出()。

- A. 选购股票 B. 不选购股票 C. 不投资邮票 D. 不投资期货

75. 基因编辑是指对基因组进行定点修饰的一项新技术。利用该技术，可以精确定位到基因组的某一位点上，在这个位点上剪断靶标 DNA 片段并插入新的基因片段。此过程既模拟了基因的自突变，又修改并编辑了原有的基因组。该技术在过去几十年里得到了快速发展，然而，一些学者认为，应尽快采取各种禁止性或限制性措施，以防止对人类造成不可逆的危害。

以下哪项将严重削弱上述学者的观点?()

- A. 近年来，基因编辑技术在植物、动物、微生物等领域的研究与应用突飞猛进
B. 在人体上进行的基因编辑试验更多是针对体细胞而非生殖细胞，既能实现对疾病的治疗，还避免了被修改的基因遗传的问题
C. 基因编辑技术是一项新技术，存在构建复杂、价格昂贵，以及较大概率的脱靶效应等问题
D. 科学狂人的冲动，有可能让中立的基因编辑技术越界，从而带来无法挽回的风险隐患和伦理悲剧

76. 陈燕、李婷和赵伟被同一所大学的英语、经济和法律三个专业录取，对于她们的录取情况，同学们有以下猜测：

甲：陈燕是经济专业的，赵伟是法律专业的

乙：陈燕是法律专业的，李婷是经济专业的

丙：陈燕是英语专业的，赵伟是经济专业的；

结果出来后，每位同学都只对了一半。

那么，下列结论正确的是()。

- A. 陈燕、李婷和赵伟分别是英语、经济和法律专业的
B. 陈燕、李婷和赵伟分别是经济、法律和英语专业的
C. 陈燕、李婷和赵伟分别是英语、法律和经济专业的
D. 陈燕、李婷和赵伟分别是法律、英语和经济专业的

76. 王军说：“只有正式代表才可以发言。”刘念说：“不对吧！梁正也是正式代表但他并未发言。”

刘念的回答把王军的话错误地理解为以下哪项?()

- A. 所有发言的人都是正式代表
B. 所有正式代表都发言了
C. 没有正式代表发言
D. 梁正不是正式代表

78. 甲大学的所有女生都爱吃油炸食品。所有爱吃油炸食品的人都不会嫌弃自己不健康。而只有甲大学的女生才会注意别人的评价。

假设上述论断都是真的，以下哪项也一定是真的?()

- I. 所有不嫌弃自己不健康的人都注重别人的评价
II. 所有注重别人评价的人都爱吃油炸食品
III. 弃自己不健康的人中没有一个人注重别人的评价
A. 仅 I B. 仅 C. 仅 I 和 II D. 仅 II 和 III

79. 小张需要一定数量的特定液体。目前, 小张有一个容积为11品脱、装满了该液体且刻度模糊的容器, 不满足他的需求。于是他向好友小刚寻求帮助。小刚拿出了两个刻度模糊、容积分别为5品脱和6品脱的容器, 说小张将这两个容器都利用到就可以得到想要的液体数量。由此可以推出, 小张需要的液体数量可能是()。

- A. 5品脱、7品脱、8品脱、10品脱
- B. 6品脱、7品脱、8品脱、9品脱
- C. 7品脱、8品脱、9品脱、10品脱
- D. 8品脱、9品脱、10品脱、11品脱

80. 一粒子的六面分别是1、2、3、4、5、6点。如果满足:①1的对面是5; ②4和6相邻; ③2和4相邻这三个条件, 那么下面结论错误的是()。

- A. 1与4相邻
- B. 4的对面是3
- C. 2与6相邻
- D. 5与3相邻

四、类比推理。每道题先给出一组相关的词, 要求你在备选答案后找出一组与之在逻辑关系上最为贴近、相似或匹配的词。

请开始答题

81. 纸张: 钢笔

- A. 司机: 汽车
- B. 牙齿: 牙刷
- C. 河流: 水
- D. 森林: 树木

82. 信息: 语言

- A. 感觉: 快乐
- B. 教学: 教育
- C. 状态: 水
- D. 股东: 股份

83. 中国: 亚洲

- A. 迪拜: 亚洲
- B. 伊拉克: 非洲
- C. 墨西哥: 南美洲
- D. 新西兰: 大洋洲

84. 压轴: 最后一个

- A. 七月流火: 天气转凉
- B. 空穴来风: 必有根据
- C. 美轮美奂: 景色美丽
- D. 目无全牛: 得心应手

85. 往: 来: 往来

- A. 牙: 齿: 牙齿
- B. 去: 留: 去留
- C. 拼: 博: 拼博
- D. 耻: 辱: 耻辱

86. 黄色: 橙色: 红色

- A. 儿童: 成人: 老人
- B. 小学: 大学: 中学
- C. 晴天: 阴天: 雨天
- D. 语文: 数学: 英语

87. 阅览:阅读:审阅

- A. 要求:命令:建议
- B. 道理:理论:理据
- C. 尊重:尊敬:尊崇
- D. 局长:市长:领导

88. 曹雪芹:红楼梦:贾宝玉

- A. 罗贯中:三国演义:关二爷
- B. 施耐庵:西游记:沙和尚
- C. 吴承恩:水浒传:林冲
- D. 许仲琳:封神演义:申公豹

89. 感冒:病毒:传染

- A. 花朵:蜜蜂:传粉
- B. 癌症:绝症:化疗
- C. 血友病:基因:遗传
- D. 伤口:感染:愈合

90. ()对于“一国两制”，相当于，马克思对于()

- A. 邓小平;唯物主义
- B. 毛泽东;剩余价值理论
- C. 邓小平;剩余价值理论
- D. 毛泽东;唯物史观

第五部分 资料分析

(共 10 题, 参考时限 10 分钟)

本部分要求你对所给的图表或文字资料进行分析，并回答每个资料后面的相关问题，选出你认为正确的答案。本部分共 10 题，每题 1 分。

一、根据以下资料，回答第 91-95 题。

据国家统计局测算，妇女就业规模继续扩大。2016 年全国女性就业人员占全社会就业人员的比重为 43.1%，超过《中国妇女发展纲要(2011~2020 年)》规定的 40% 的目标。女职工的合法权益得到进一步维护，为减少和解决女职工在工作中因生理特点造成的特殊困难发挥了积极作用。2016 年，执行《女职工劳动保护特别规定》的企业比重明显提高，达 73%，比 2010 年提高 18 个百分点。

农村贫困妇女人数大幅度减少，基本实现应保尽保。按照年人均收入 2300 元的农村贫困标准计算，2016 年全国农村贫困人口为 4335 万人，比 2010 年减少 12 亿人，其中约一半为女性。2016 年农村贫困妇女享受“低保”及农村特困人员人数占全国农村女性贫困人口的比重为 38%，比 2010 年提高 4.1 个百分点。

女性生育保障水平有明显提高。《女职工劳动保护特别规定》发布以来，女职工在产假、怀孕流产等各个特殊时期的保护有了明确的规定，女性参加生育保险的人数迅速增加。2016 年，女性参加生育保险的人数达 8020 万人，比 2010 年增长 49%。

享有基本社会保障的女性人数增加。2016 年，全国参加基本养老保险人数 8.9 亿人，其中女性 3.5 亿人；参加城镇职工基本养老保险人数 3.8 亿人、其中女性 18 亿人，占比为 46.6%；2016 年，参加城乡居民基本养老保险人数 5.1 亿人，其中女性超过 1.7 亿人。

女性参加失业保险和工伤保险的人数增加,2016年,全国参加失业保险的人数超过1.8亿人,其中女性7551万人,分别比2010年增加4713万人和2402万人,增长35%和47%;参加工伤保险人数2.2亿人,其中女性8129万人,分别增长35%和43%。

91. 2016年全国女性就业人员占比超《中国妇女发展纲要(2011-2020年)》多少个百分点?()

- A. 4.1 B. 3.1 C. 18 D. 2.1

92. 2010年全国农村贫困妇女人数约为多少万人?()

- A. 4335 B. 7356 C. 2494 D. 8168

93. 2010年农村贫困妇女享受“低保”及农村特困人员人数约为多少万人?()

- A. 6564 B. 8020 C. 2494 D. 2769

94. 2016年参加城镇职工基本养老保险的男性约占全国参加基本养老保险人数的()。

- A. 46.6% B. 38.3% C. 22.5% D. 35%

95. 按2016年参加四种保险的女性占比从大到小排列,正确的顺序为()。

- A. 城镇职工基本养老保险,城乡居民基本养老保险,失业保险,工伤保险
B. 城镇职工基本养老保险,失业保险,城乡居民基本养老保险,工伤保险
C. 城镇职工基本养老保险,失业保险,工伤保险,城乡居民基本养老保险
D. 失业保险,城镇职工基本养老保险,工伤保险,城乡居民基本养老保险

二、根据以下资料,回答第96-100题

A省本月金融机构存款贷款

指标名称	本月(亿元)	比年除增减(亿元)
金融机构人民币存款余额	119919.39	12046.4
境内存款	119629.80	12021.0
住户存款	43313.71	2750.7
非金融企业存款	45047.05	6113.7
广义政府存款	23861.36	3118.0
非银行金融机构存款	7407.67	38.6
境外存款	289.60	25.3
金融机构人民币贷款余额	87478.20	8608.8
境内贷款	87414.56	8634.0
住户贷款	24279.75	4079.6
短期贷款	4877.97	70.3
中长期贷款	19401.78	4009.3
非金融机构及机关团体贷款	63131.64	4554.1
短期贷款	25706.37	-207.1
中长期贷款	31120.97	2809.0
票据融资	5537.55	762.0
融资租赁	625.85	182.1
各项垫款	140.89	8.1
非银行金融机构贷款	3.17	0.3
境外贷款	63.64	-25.2

96. 该省年初金融机构人民币存款余额占存款余额的比重约为()。

- A. 73.1% B. 80.5% C. 90.3% D. 95.1%

97. 该省本月金融机构人民币存贷款的下列项目中, 余额比年初增加最少的是()。

- A. 境内存款中的非金融企业存款
- B. 境内住户贷款中的短期贷款
- C. 金融机构人民币贷款
- D. 非金融企业及机关团体款中的各项垫款

98. 该省本月金融机构人民币存款余额在下列项目中相比年初长比重最小的是()。

- A. 境内存款
- B. 住户存款
- C. 非金融企业存款
- D. 广义政府存款

99. 该省本月金融机构人民币境内住户存款之差相比年初约()。

- A. 减少了 1329 亿元
- B. 增加了 1329 亿元
- C. 减少了 1903 亿元
- D. 增加了 1903 亿元

100. 该省本月非银行金融机构贷款余额同比增长()。

- A. 10.5%
- B. 10.0%
- C. 9.5%
- D. 不知道

※※※ 全部测验到此结束! ※※※