

联系电话 023-88287377

官方网站 <http://www.leenjy.com>

沙坪坝沙龙汇文化广场三楼(小龙坎地铁站 1 号出口前行 100 米)



2016 年重庆市选调优秀大学生 到基层工作考试

《行政职业能力测验》试卷

重要提示:

为维护您的个人权益，确保公务员考试的公平公正，请您协助我们监督考试实施工作。

本场考试规定：监考老师要向本考场全体考生展示题本密封情况，并邀请 2 名考生代表验封签字后，方能开启试卷袋。

条
形
码
粘
贴
处

请将此条形码揭下，

贴在答题卡指定位置

第一部分 常识判断

(共15题, 参考时限10分钟)

根据题目要求, 在四个选项中选出一个正确答案。本部分共15题, 每题1分。

1.《推动共建丝绸之路经济带和21世纪海上丝绸之路的愿景和行动》提出, 陆上依托国际大通道共同打造新亚欧大陆桥经济走廊, 新亚欧大陆桥经济走廊, 又称“第二亚欧大陆桥”()。

- A.起点是大连、沈阳、长春、哈尔滨, 终点是满洲里和俄罗斯赤塔
- B.起点是江苏连云港、山东日照, 终点是新荷兰鹿特丹港
- C.起点是新疆喀什, 终点是巴基斯坦坦瓜达尔港
- D.起点是重庆, 重点是德国杜伊斯堡

2.2015年9月3日, 天安门广场举行盛大阅兵式, 纪念中国人民抗日战争及反法西斯战争胜利70周年, 三军仪仗队组成史上最大阵容亮相大阅兵, 现代“三军”是指海军、陆军、空军, 而“三军”的说法最早始于春秋时期, 唐宋以后, “三军”是指()。

- A.前军、中军、后军
- B.步军、马军、水军
- C.上军、中军、下军
- D.步军、车军、骑军

3.集中反映IT产业起伏的指数是()

- A.道琼斯指数 B.纳斯达克指数
- C.克强指数 D.沪深指数

4.“兰桂齐芳”的“兰桂”指()

- A.子孙 B.花草 C.理想 D.人才

5.目前, 重庆正在重点培育战略性新兴产业集群, 形成一批新的经济增长点。所谓战略性新兴产业, 是指以重大技术突破和重大发展需求为基础, 对经济社会全局和长远发展具有重大引领带动作用, 知识技术密集、物质资源消耗少, 成长潜力大, 综合效益好的产业, 下列选项中, 全部属于战略性新兴产业的是()

- A.节能环保、生物、绿色食品
- B.信息、文化创意、海洋产业
- C.新能源、现代物流, 高端生产性服务业
- D.新能源汽车, 新材料, 高端装备制造

沙坪坝沙龙汇文化广场三楼(小龙坎地铁站1号出口前行100米)

6. “8.12天津爆炸”事故造成了重大伤亡，是由于危险品保存不当造成的事件，下列关于危险品保存和保管的说法不正确的一项是（ ）

- A. 远离高温以及太阳直射
- B. 存储容器必须贴有明显标识
- C. 尽量一并存放
- D. 其仓库与生产，生活区保持一定距离

7. 河南一大学生捕猎，贩卖国家二级保护动物燕隼鸟16只被判刑10年并处以罚款的消息，令公众对野生濒危动物的保护有了深层次的认识，下列不属于二级国家保护动物的有（ ）个

- (1) 天鹅 (2) 野猪 (3) 大鲵 (4) 黑熊 (5) 扬子鳄 (6) 虎 (7) 海豚
- A. 2 B. 3 C. 4 D. 5

8. 随着“保税经济时代”的到来，重庆各保税物流中心，保税商品展示中心，大型免税店等纷纷建立，早就打开一条不出国门抢“洋货”的捷径。我们熟知的保税货物，是指经海关批准未办理纳税手续进境，在（ ）储存，加工，装配后复运出境的货物。

- A. 国内 B. 境内 C. 保税区内 D. 海关

9. “地表沙丘，砾石遍布，大气稀薄，以二氧化碳为主，”昼夜温差大，常有尘暴发生……上述文字最有可能描述的是（ ）

- A. 金星 B. 火星 C. 木星 D. 土星

10. 歌剧《图兰朵》中采用了我国哪首民歌曲调（ ）

- A. 小白菜 B. 兰花花 C. 茉莉花 D. 采茶灯

11. 花卉常用于装饰城市公园、广场和街道，提高绿化面积，美化城市，让人提升喜悦之感、请问在我市主城区，可以在同一时期欣赏以下哪些花卉？（ ）

- A. 紫荆 芙蓉 桂花 B. 玉兰 广玉兰 黄角兰
- C. 蓝花楹 紫竹梅 木棉 D. 腊梅 海棠 山茶

12. 人工鱼礁是一种人为的海底堆积物，在渔业资源不断衰减的今天，这些人为在海中放置的堆积物成为大海的守护者，关于人工鱼礁被称为大海守护者的原因，解释最全面的是（ ）

- A. 为鱼类等提供繁殖、生长、索饵和庇敌的场所
- B. 为鱼群提供躲避风浪和天敌的地方
- C. 可诱集鱼类，形成渔场，以供人们捕获
- D. 上升流将海底营养丰富的海水带到了上来

13.在下列土地使用权出让的项目中，哪种用地得到的出让土地使用权的年限最高？（ ）

A.居住使用 B.工业使用 C.教育使用 D.商业使用

14.城市大气污染的浓度通常与风速（ ）

A.成正比 B.成反比 C.无关系 D.不定

15.下列有关生活常识的表述中，正确的一项是（ ）

A.冰冻后的牛奶与鲜牛奶相比，其营养成分更容易被人吸收

B.24 支针织品的纱线比 100 支纱的更细

C.人体最大的解毒器官是肾脏

D.移动通信设备与 Internet 相连接的应用协议是 WAP

※※※第一部分结束，请继续做第二部分！※※※

第二部分 言语理解与表达

(共30题,参考时限25分钟)

本部分包括表达与理解两方面的内容,请根据题目要求,在四个选项中选出一个最恰当的答案。本部分共30题,每题1分。

16.①西欧的政治与社会制度,在刚有文字记载的远古时代,即已表现出原始的民主_____。

②如果我们只_____于现实生活之内,则我们显然无法看清人生的全部,找不到自己的生命方向。

依次填入划线部分最合适的一项是()。

- A. 意旨 限定 B. 意旨 局限 C. 意味 限定 D. 意味 局限

17.奥尔森认为,一个没有根据地的强盗每到一个新地方都会有强大的激励以“_____”的方式来掠取好处,反正这地方以后如何_____。相反,如果有了自己的地盘,强盗就会思考地方的长远发展,因为这样才能长久地给他们贡献稳定的收入。

依次填入划线部分最合适的一项是()。

- A. 杀鸡取卵 事不关己 B. 赶尽杀绝 漠不关心
C. 涸泽而渔 无关大局 D. 覆军杀将 无关痛痒

18.近年来多渠道、多形式、多层次的对外文化交流,积极地参与世界文明对话,促进不同文化的相互借鉴,_____中华文化在世界上的传播力、感召力和影响力,在_____我国文明、民主、开放、进步形象的同时,也_____了国际社会对我国基本国情、价值观念、发展道路、内外政策的了解和认识。

- A. 增强 展现 增进 B. 扩大 呈现 促进 C. 提升 展示 提高 D. 增加 树立 推进

19.①那时处处都是歌声和_____的胡琴声,圆润的喉咙,确实是很少的。

②逛南京像逛古董铺子,到处都有些时代侵蚀的遗痕。你可以摩挲,可以凭吊,可以_____遐想。

③一座依山傍水的江南宅院。在这个现代气息无所不在的时代里,它带着几分_____,想必此处已许久无人造访。

依次填入划线部分最合适的一项是()。

- A. 凄厉 悠然 寂寞 B. 凄厉 怡然 寂静
C. 凄凉 悠然 寂静 D. 凄凉 怡然 寂寞

沙坪坝沙龙汇文化广场三楼(小龙坎地铁站1号出口前行100米)

20.在知识大爆炸的今天,不少人已习惯于浅阅读,这虽在所难免,其_____也是明显的。浅阅读虽能够收获一些印象式的谈资,但_____之中透露出的是浮躁心气,很难_____为提升阅读者主体素质的扎实“文化准备”。

- A.代价 走马观花 转换 B.影响 浅尝辄止 汲取
C.弊端 浮光掠影 沉淀 D.局限 言语举止 锤炼

21.“80后”作家的作品很难成为经典,_____因为他们的生活经验是封闭的、苍白的,_____因为他们的写作技巧并不成熟、审美价值并不太高,_____从代际更替的角度看,他们迟早要成为“主力军”,_____除非他们介入现实和历史,除非他们赋予写作以更开阔的文化视野和更深刻的思想深度,否则他们很难成为真正具有主宰性和代表性的作家。

依次填入划线部分最合适的一项是()

- A.不但 而且 即使 也 B.不仅 还 虽然 但
C.不是 而是 尽管 可是 D.就是 还是 既然 就

22.有人说:孤独是蚌病成珠。忍耐痛苦的结果是得到那颗美丽绝伦的珍珠,_____相反,乐于独处的人把独处看成是难得的享受。独处,最有利于想象力的发挥。独对自然,心灵会像宇宙一样深邃;独观书籍,思想会像电波一样通达古今;独赏音乐,情绪会像雪莲一样冰清玉洁;独坐静思,自我会像大山一样坚实稳固。

填入划线部分最恰当的一句是()

- A.可是并不是每个人都会感到孤独
B.但独处并不意味着孤独
B.可是思考需要宁静的处所和精心的孕育
D.问题是孤独一定是不好的吗

23.下列各句中,加点词语使用不恰当的是()

- A.活熊取胆汁,其状之惨不忍卒读
B.薪尽火传,经过漫长的岁月,儒学得以延续和发展
C.为了保护自然环境,这类工程的设计人员决定改弦更张,重新设计
D.增强安全意识,做好防护措施,才能真正防范于未然

24.①随着人口增加,土地兼并日益严重,盲目的滥垦导致了对生态环境的破坏,而且吏治的腐败一直存在,影响着水工功效的发挥,到清后期灾害又频繁起来

②它对人类社会的影响既取决于自然系统的变异程度,又取决于人类社会对自然变异的综合承受能力

沙坪坝沙龙汇文化广场三楼(小龙坎地铁站1号出口前行100米)

③清初由于灾害频繁发生，政府组织兴修了大量水利工程，加上清中期政治相对清明，水旱灾害程度得以减轻

④清代淮河流域旱涝灾害的发生与当时社会承受能力低下、社会各级管理效率不高以及政府的漕运政策密切相关

⑤自然灾害是相对于人事环境而言的

⑥自然界的异常若无人类承受其影响，便不能成为灾害

请将以上6个句子重新排列，语序正确的是（ ）。

- A.⑤②⑥④①③ B.⑤⑥②④③①
C.⑥④①③⑤② D.⑥②③⑤①④

25. 只要没有东西在他手里一无用处地毁坏掉，他就不曾糟蹋，也不曾毁坏属于其他人的东西的任何部分。又假如他愿意将他的干果换取了一块其颜色为他所喜欢的金属，将他的绵羊换取了一些贝壳，或将羊毛换取一块闪闪发亮的卵石或一块砖石，由他终身加以收藏，他并不曾侵犯他人的权利。这些结实耐久的东西，他喜欢积聚多少都可以。

这段文字主要阐述的观点是（ ）

- A. 确定私有财产的主要方式
B. 确定共有财产的主要方法
C. 判断一个人的正当财产的范围，不在于他占有多少，而在于是否侵犯他人权利
D. 一个人的财产来源于他能占有多少

26. 人性化的公共行政服务，不能依赖于具体公务人员的道德品行；改变传统的行政思维，也难以通过一纸通知就顺利实现。现代公共行政领域之宽泛、基层服务部门之繁杂、公务执法人员素质之不均，表明普遍意义上的服务行政很难通过简单的方式实现，持久性的效应必须确立在稳定的制度基石之上。所以，在中央政府行政指令的导向下，更需启动制度建设模式，将服务行政的各项要求纳入行政法律制度之中，成为各级部门依法行政的核心理念和自觉遵循。

这段文字主要想表达的是（ ）

- A. 公共行政转型势在必行
B. 必须树立人性化的公共行政服务理念
C. 唯有依法行政，才能保证人性化的公共行政服务
D. 对官员个体的道德伦理要求需要上升到制度层面

27. 根据中央的十三五规划建议，重庆市深入分析了当前实际，明确了未来五年全市经济社会发展的奋斗目标。在十三个五年计划期间，重庆不仅要实现经济社会平稳较快发展，提高发展质量和效益，到2017年地区生产总值和城乡居民人均收入比2010年翻一番，到2020年城乡居民人均收入力争达到全国平均水平，还要加快建设国家重要现代制造业基地、国内重要功能性金融中心、西部

沙坪坝沙龙汇文化广场三楼(小龙坎地铁站1号出口前行100米)

创新中心和内陆开放高地，充分发挥西部开发开放战略支撑功能和长江经济带西部中心枢纽功能，

基本建成长江上游地区经济中心。因此，实现“十三五规划建议”目标可谓是任重道远。

这段文字主要支持了这样一个观点，即：（ ）

- A.重庆市明确了未来五年经济社会发展的奋斗目标、工作思路和重大任务
- B.重庆市“十三五规划建议”包括很多内容
- C.重庆市实现“十三五规划建议”目标任重道远
- D.未来五年重庆市经济社会发展的奋斗目标宏伟远大

28.放任市场最大的弊端，是它会导致极大的贫富差距。市场竞争的逻辑，是优胜劣汰，弱肉强食，不平等遂无避免。有人马上会说，结果不平等没问题，只要起点公平就行。但每个人的起点并不一样。我们的出生地点、自然禀赋、家庭背景、社会阶级等各有不同，这些差异必然导致竞争中的机会不平等，机会不平等必然导致结果不平等，这一代的结果不平等又会导致下一代更大的机会不平等，如此循环往复，遂贫者愈贫，富者愈富。也就是说，如果没有政府的调节补救，市场逻辑只会导致愈来愈大的机会不平等。很多人所谈的市场公平竞争，往往流于形式，却没有考虑到不同人在一开始进入市场时已经处于不公平的位置。

这段文字意在告诉我们（ ）

- A.在市场经济中政府宏观调控的重要性
- B.贫富差距的根源是放任市场
- C.公平问题急需解决
- D.市场竞争中每个人的起点不一样

29.“微阅读”，是伴随手机短消息，网文、博文出现而兴起的一种阅读方式。随着智能手机、平板电脑、电子阅读器等在家庭中的普及，少年儿童的“微阅读”渐成趋势。尽管关于“微阅读”价值的认定还处于争论阶段，但碎片化的信息导致碎片化思维这一结论显然是成立的，而且已经有了不少例证。如果过度沉溺于“微阅读”，其实用性和消遣性会在无形中消解少年儿童阅读时的沉潜心态，从而影响到少年儿童对知识的吸收。

这段文字意在（ ）。

- A.揭示促使“微阅读”兴起的前提条件
- B.说明“微阅读”在少年儿童中逐渐趋势
- C.提醒少年儿童不要被“微阅读”所掌控
- D.剖析“微阅读”对社会只是传承的影响

30.到过巴黎的人，都会经过那条塞纳河，它犹如一条长长的玉带，将左岸艾菲尔铁塔，右岸的卢浮宫，以及被塞纳河怀抱的巴黎圣母院等法兰西的文化瑰宝串连在一起。曾经，其污染状况和我国的太湖、巢湖、滇池等淡水湖泊污染状况非常相似，湖水明显变臭，湖泊的富营养化加剧，水功

沙坪坝沙龙汇文化广场三楼(小龙坎地铁站 1 号出口前行 100 米)

能退化等。与我国湖泊治理中各自为政的做法不同，是自 1830 年以来为加强塞纳河流域水资源管理，法国成立了直接隶属环境部的流域管理机构——塞纳河流域水管局，经费由国家财政支持，经济独立，免受地方政府制约，是法国水资源环境管理体制中的核心机构。它的主要职责是代表国家环境部进行各省的监督和协调。在水管局主导下，塞纳河才慢慢恢复成今天洁净的面貌。

这段文字告诉我们的是（ ）

- A. 我国湖泊治理可以借鉴法国的做法
- B. 系统观、整体观在湖泊治理中的重要作用
- C. 因地制宜、因时制宜的重要性
- D. 工业的发展都会带来巨大的污染

31. 当前劳动密集型产业从沿海地区向中西部地区转移，说明劳动力成本因素起的作用越来越大，配套性和规模经济所起的作用相对变小。虽然中西部地区暂时还没有这种产业配套的聚集效应，但国内的中部省份和沿海地区，往往只有一河一山之隔，所以配套中心在国内范围的转移，比起向其他国家转移的可能性要高得多，效率也高得多。

下面列举的中西部具有的优势在这段文字中没有涉及的是（ ）。

- A. 土地价格相对便宜
- B. 工资水平较沿海低
- C. 劳动力相当丰富
- D. 与沿海地区相聚并不遥远

32. 普世价值被操控、被扭曲、被滥用的根源是不平等的世界权利关系。沃勒斯坦把迄今为止所有的普世主义统称为欧洲的普世主义，他认为，问题不是质疑世界上到底有没有普世价值，而是我们还不知道普世价值是什么。普世价值不是被给定的，而是被创造的。沃勒斯坦提出一个命题：我们应该追寻真正普世的普世主义。这又赖于一个权力平等的世界格局的出现，而这个动荡的世界向何处走，将决定我们是离一个目标越来越近，还是越来越远。

这段文字中作者意在说明（ ）。

- A. 普世主义被强势者变成了一种压迫性的文化工具
- B. 构建权力平等的世界格局的重要性
- C. 普世主义是虚伪和双重标准的
- D. 平等世界格局下的普世主义即将实现

33. 阅读一本《论语》，甚至是厚厚的《史记》，为什么有人能一目十行，不到几分钟就可讲出书中的内容？2014 年 10 月，中科院上海生命科学研究院某课题组采用先进的光遗传方法，证实了“瞬间记忆”的幕后“操控者”为大脑内侧的前额叶——额头后面的一大片区域。当“瞬间记忆”

沙坪坝沙龙汇文化广场三楼(小龙坎地铁站1号出口前行100米)

正在进行时，内侧前额叶负责信息的“暂时存储”，而当“瞬间记忆”任务基本完成后，信息的“续存储功能”就会转交给其他脑区。

这表明

- A.自在事物的联系具有“人化”的特点
- B.意识是由生物的反应形式决定的
- C.意识是人脑的机能
- D.世界上的一切事物都是物质的

34.口袋鼓了，脑袋空了---改革开放以来，乡村发生巨大变化，农民物质生活大多“翻了身”。在靠不成文的村规民约、乡邻道德约束的“熟人圈子”里，农村社会正静静地发生另一场深刻变革；流动时代、经济大潮下的重利轻义，城镇化生活方式的冲击，使得原本无处不在的乡村道德约束逐渐松弛、异化。甚至有人感叹乡村道德已死，作为乡土中国的价值核心---乡村道德，将何去何从？

文段接下来可能描述的是（ ）

- A.乡村道德的约束力
- B.如何重建乡村道德
- C.乡村道德衰落的原因
- D.重建乡村道德的意义

35.基孔肯雅热是一种由蚊子传播的急性病毒性传染病，这种病是1952年在坦桑尼亚被首次发现的。当时坦桑尼亚的许多村庄60%至80%的人患病，“基孔肯雅”这种病名就来自于坦桑尼亚语，意思是“曲肢痛”，表现出这种疾病严重的关节疼痛，使病人痛得曲着肢体的样子，20世纪50年代，这种疾病主要在非洲流行。20世纪60年代开始在东南亚地区流行。近年来，缅甸、泰国、柬埔寨、越南、印度尼西亚和马来西亚等东南亚国家都有流行，1987年，我国云南西双版纳地区97例发热病人中确诊过1例基孔肯雅热患者。

对这段文字的理解，以下表述正确的是（ ）

- A.基孔肯雅热是一种传染性极强的病
- B.基孔肯雅热源自20世纪中叶的非洲
- C.基孔肯雅热病现已逐渐传遍了全球
- D.基孔肯雅热病不可怕，可以治愈

36.古人有立德、立功、立言之说。可是立德需要一世的修为，立功太过危险，立言则要皓首穷经，这都是太难的事，比不上立名来得容易。在这个市场的时代，成名可以很快，只要成了名人，没学问也可以成为大师，自有一帮徒众会去吹捧。市场时代会形成一种轻薄速食的文化，透过媒体来表演，已成为了唯一的标准，立名也就取代了立德立功立言。

作者对“立名”的态度是（ ）

- A.肯定
- B.否定
- C.不置可否
- D.既肯定又否定

37.美国的决策者认为,第三次工业革命使得产品升级换代的周期大大缩短,产品一般两年就会更新。每一次产品的重大更新,也预示着原有的核心技术被快速淘汰。因此,年轻人在大学学习的基础知识到毕业时已有很大部分过时了,造成了极大浪费。更何况,传统的、学院式的教学按一个模版培养人,教出的仅有大批高级蓝领,而创新竞争需要的是领导潮流的人才,鉴于此,美国许多大学把创意和实现创意的能力作为培养学生的主攻方向,在创新实验室中,把激情激励、善想象以及辨别、判断、捕捉机会作为重点教学内容。

这段文字主要说明()。

- A.第三次工业革命将引领新的人才和知识革命
- B.美国进行教育革命是适应新的发展趋势的需要
- C.与以往相比,美国现今的教育发展模式具有更强优势
- D.美国进行创新模式改革,重点培养年轻人的创新能力

38.很多人担心高校自主招生会导致腐败盛行,贫困学生利益受损。而真正的自主招生,是扩大学生的选择权,让一名学生可获得多张大学录取通知书再选择大学。当学生选择权扩大,也就落实了受教育者对学校的监督和评价,学校必须公开办学信息和招生信息,同时必须转变办学历练,以教育质量、声誉和服务吸引生源,大学在自主招生中,建立多元评价体系,结合统一高考成绩、学业成绩、中学综合素质和大学面试考察综合录取,可引导基础教育摆脱应试教育。

这段文字意在说明()。

- A.高校自主招生能提高学生的综合素质
- B.解决腐败问题是推行高校自主招生的前提条件
- C.推行真正的自主招生对多方面都有着积极的意义
- D.高校自主招生不会让腐败盛行

39.霍金认为,理论上讲,虫洞或时光隧道不仅仅能把我们带到别的星球。如果两段在同一个地方,且由时间而非距离分离,在遥远的过去,飞船就能在地球附近自由出入,或许恐龙会看到飞船登录。但他同时又提出一个“疯狂科学家”悖论:一个科学家利用冲动,仅需一分钟就来到过去,通过虫洞,科学家可以看到一分钟前的自己。如果这位科学家利用虫洞向以前的自己开枪,会发生什么?他现在已经一命呜呼。那又是谁开的枪呢?这便是悖论。这种时间机器会违反整个宇宙所遵循的基本规则。

下列哪项描述与霍金的观点一致?()

- A.任何通过“虫洞”和其他方式回到过去的时间旅行都是不可能的
- B.利用“虫洞”穿越时空是不可能的
- C.利用“虫洞”进行任何形式的时间旅行是行不通的
- D.宇宙飞船可以通过虫洞或时光隧道把我们带到地球意外的其他星球

40.像《红楼梦》这样的经典名著，在世界文学史中是可以陈列慢慢一个艺廊的，我国古典诗文，从诗三百、楚辞，到李白、杜甫，到龚自珍，小说从“四大奇书”，到《聊斋志异》《儒林外史》；外国的名著，从荷马史诗到莎士比亚的戏剧，从塞万提斯的《堂吉诃德》，到托尔斯泰的《复活》，再到卡夫卡的《变形记》……几乎都是一座座永难挖掘尽的精神矿藏，其历史的深度和文化反思的力度，特别是它们永恒的艺术魅力与文化底蕴，值得我们和我们的后人反复品味。

下列对经典名著成为精神矿藏的原因，理解最肤浅的一项是（ ）

- A.在世界文学史中是可以陈列满满一个艺廊的
- B.具有历史的深度和文化反思的力度
- C.拥有永恒的艺术魅力
- D.具有浓厚的文化底蕴

41.哲学曾经是一种生活方式。所谓苏格拉底的哲学，不只是和别人对话的方法，以及他在对话中提出的种种理论，更是他不立文字、浪迹街头、四处与人闲聊的生活方式。哲学从一开始就不是一种书面的研究，而是一种过日子的办法。只不过我们后来都忘记了这段，把它变成远离日常的艰深游戏。即便是很多人眼中刻板的康德，也不忘区分“学院意义的哲学”和“入世意义的哲学”，并且以后者为尊。

这段文字意在说明（ ）

- A.哲学源于生活，应服务于民众
- B.如今的哲学发展已偏离其本质
- C.康德和苏格拉底的哲学观念一脉相承
- D.当代人们对哲学的诠释方式发生了改变

42.我们也许已经开始后悔，未能把过去那些珍贵的生活片段保存下来，殊不知，多少年后，我们又会后悔今天。如果有一天，我们突然发现，投身再大的事业也不如把自己的人生当作一个事业，聆听再好的故事也不如把自己的人生当作一个故事，我们一定会动手，做一点有意思的事情。不妨把这样的事称之为“收藏人生的游戏”。让今天收藏昨天，让明天收藏今天，在一截一截的收藏中，原来的断片连成了长线，原先的水潭连成了大河，而大河，就不会再有腐臭和干涸的危险。

文中加点的文字指代的是（ ）

- A.把自己的人生当作事业
- B.停下来聆听自己的故事
- C.把生活中珍贵的片段记录下来
- D.在生活中寻找有意思的事情

43. “法之必行”的真正动力来自哪里？有人说靠激励，也有人寄希望于惩戒。这些都不无道理，但还有一点往往被人忽视，那就是法治精神的作用。常见媒体有这样的报道，尽管有制度规范，严格监管，依然有一些不法商贩存在侥幸心理，寻机销售假冒伪劣产品。如果人们有心理契约，规则在人们心中，自然有良好的行为约束。

这段文字意在强调（）

- A. “法之必行”有多重动力来源
- B. 法治精神是民众守法的内在动力
- C. 制度规范本身不能杜绝违规行为
- D. 心理契约是人们心中的行为约束

44. 艺术反过来必然要影响生活，由于中国文人将自然艺术化、将艺术生活化，那么这种影响就更加深刻。丰子恺先生在《从梅花说到艺术》中引用了一句哲语：“人们不是为了悲哀而哭泣，乃是为了哭泣而悲哀的。”在艺术上也有同样的情形，人们不是感到了自然的美而表现为绘画的，乃是表现了绘画之后才感到自然的美。换言之，“绘画不是模仿自然，自然是模仿绘画的。”

对划线句子理解最正确的一项是（）

- A. 说明悲哀与哭泣的关系，强调哭泣比悲哀更加重要
- B. 说明自然与艺术的关系，强调艺术对自然的模仿
- C. 说明生活与艺术的关系，强调艺术对生活的反作用
- D. 说明园林与绘画的关系，强调园林对绘画的仿效

45. 在追逐太阳飞行的路上，失败和不完美一直存在着，即使面对诸多困难，依靠太阳能把人类带上天空翱翔的梦想也依然充满着无限诱惑。也许 40 多年后，太阳能飞机承载着数百名乘客进行商业飞行将不再是梦想。正如冒险家、太阳驱动号项目负责人贝特朗·皮卡尔所言：“这不仅是航空业的一次彻底变化，也是我们社会的一个完全转变。”

这段文字意在说明（）。

- A. 太阳能飞机前景依然广阔
- B. 追求太阳飞行的路途并不完美
- C. 制造太阳能飞机困难重重
- D. 航空业将出现彻底变化

※※※第二部分结束，请继续做第三部分！※※※

第三部分 数量关系

(共 15 题, 参考时限 20 分钟)

本部分包括两种类型的题:

一、数字推理:下列各题均是根据某种规律排列的数列, 并缺少其中一项或两项, 请仔细观察每一数列的排列规律, 选出你认为正确的答案。本部分共 5 题, 每题 1 分。

46. 2, 3, 1, -4, -12, ()

A. -14 B. -20 C. -23 D. -26

47. $1/2, 3/5, 8/13, 21/34, ()$

A. $38/81$ B. $45/86$ C. $55/89$ D. $62/91$

48. 6, 14, 18, (), 28, 36

A. 19 B. 22 C. 25 D. 26

49. 1, 1, 5, 7, 13, ()

A. 15 B. 17 C. 19 D. 21

50. 11, 92, 141, 166, 175, ()

A. 176 B. 181 C. 183 D. 192

51. 从 21, 22, 23, 24, 25, 26, 27, 28, 29 中任意选出三个数, 使他们的和为奇数, 可以有 () 种选法。

A. 44 B. 42 C. 40 D. 39

52. 在平面直角坐标系中, 如果点 P (3a-9, 1-a) 在第三象限内, 且横坐标纵坐标都是整数, 则点 P 的坐标是 ()

A. (-1, -3) B. (-3, -1) C. (-3, -2) D. (-2, -3)

53. 某人以前走路上班, 但是油价下跌后改由开车上班, 速度较以前增长 25%, 那么其路上花费的时间减少了 ()

A. 15% B. 20% C. 25% D. 30%

54. 某公司有 200 名员工报名参加年会的竞赛活动, 其中销售部、生产部、财务部、人力资源部分别有 100、70、20、10 人, 问至少有多少人进入竞赛活动才能保证一定有 30 名员工工作部门相同 ()

A. 88 B. 78 C. 90 D. 89

55.出租车的起步价是 2 公里 7 元，往后每增加 1 公里车费增加 2.6 元，若不足 1 公里按 1 公里计费。某人从甲地到乙地乘坐出租车共支付车费 20 元，如果从甲地到乙地先步行 800 米，然后再乘坐出租车也是 20 元，那么乘出租车从甲、乙两地中点到乙地需要支付车费（ ）元

- A.9.6 B.14.8 C.12.2 D.7

56.一项工程，甲单独完成需要 60 天，乙单独完成需要 30 天，丙单独完成需要 15 天，如果按照甲、乙、丙的顺序交替进行，那么需要多少天才能完成？（ ）

- A.25 天 B.26 天 C.27 天 D.28 天

57.有老师和甲、乙、丙三个学生，现在老师的年龄刚好是这三个学生的年龄之和；9 年后，老师的年龄将是甲、乙两个学生的年龄之和；又 5 年后，老师的年龄将是甲、丙两个学生的年龄之和；再 3 年后，老师的年龄将是乙、丙两个学生的年龄之和。那么现在老师的年龄是（ ）岁

- A.36 B.40 C.42 D.45

58.某作家在一书城举办签售会，已知签售会 8:30 开始，但是之前已有人提前排队等候，从第一个顾客来到时起，每分钟所到来的人数相同，如果开 4 个人入场口，则在 8:37 分时便不会有人排队，若开 5 个入场口，则在 8:35 分钟时便不会有人排队，那么第一个顾客到达的时间是（ ）

- A.8:18 B.8:11 C.8:12 D.8:16

59.为帮助果农解决销路，某企业年底买了一批水果，平均发给每部门若干筐之后还多了 12 筐，如果再买进 8 筐则每个部门可分得 10 筐，则这批水果共有（ ）筐。

- A.192 B.198 C.200 D.212

60.某单位在编一本年鉴，其页数需要用 6869 个数字，那么这本年鉴共有（ ）页。

- A.1886 B.1942 C.1968 D.1994

※※※第三部分结束，请继续做第四部分！※※※

第四部分 判断推理

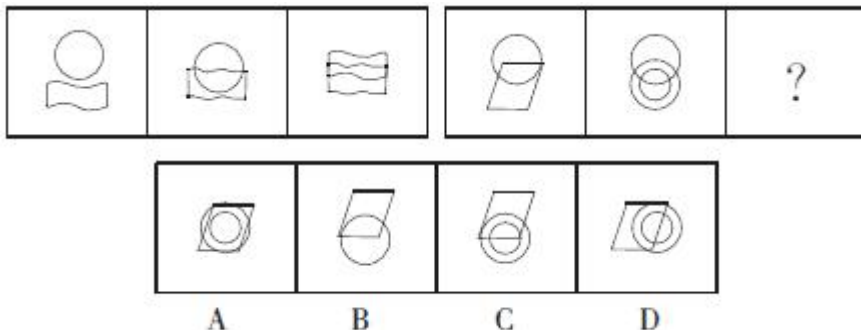
(共30题, 参考时限25分钟)

本部分包括四种类型的试题:

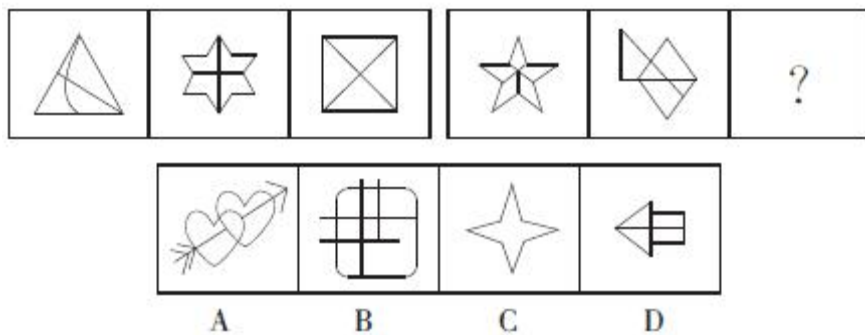
一、图形推理:请从所给的四项选择中, 选择最合适的一个填在问号处, 使之呈现一定的规律性。

本部分共5题, 每题1分。

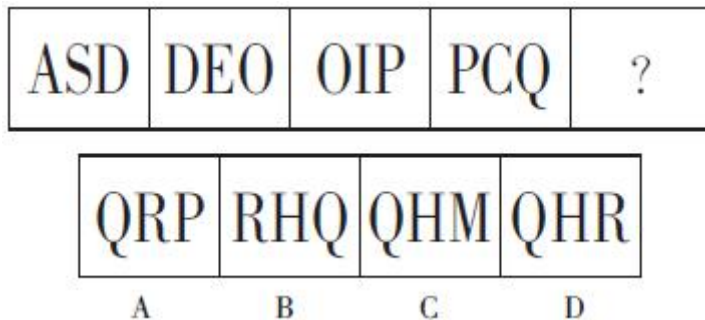
61. 根据图形规律, 填入问号处最合适的一项是 ()



62. 根据图形规律, 填入问号处最合适的一项是 ()

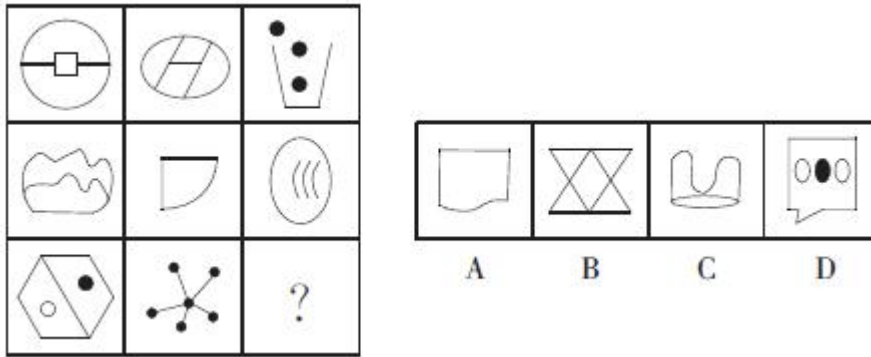


63. 根据图形规律, 填入问号处最合适的一项是 ()

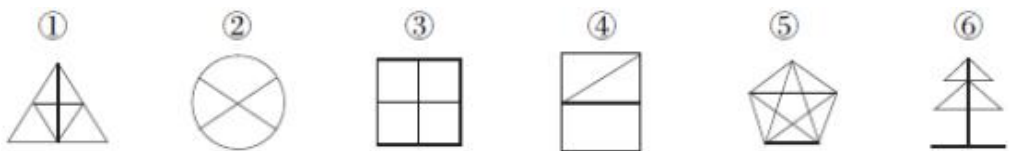


沙坪坝沙龙汇文化广场三楼(小龙坎地铁站1号出口前行100米)

64. 根据图形规律，填入问号处最合适的一项是 ()



65. 把下面的六个图形分为两类，使每一类图形都有各自的共同特征或规律，分类正确的一项是



A. ①②⑤, ③④⑥

B. ①④⑤, ②③⑥

C. ①③⑥, ②④⑤

D. ①⑤⑥, ②③④

二、定义判断。每道题先给出定义，然后列出四种情况，要求你严格依照定义，从中选出一个最符合或最不符合定义的答案。注意：假设这个定义是正确的，不容置疑的。请开始答题：

66. 工作扩大化：是指在横向水平上增加工作任务的数目或变化，使工作多样化。工作丰富化：是指从纵向上赋予员工更复杂、更系统化的工作，使员工有更大的控制权。

根据上述定义，下列属于工作丰富化的是 ()

- A. 自助餐厅的伙计在面食、沙拉、蔬菜、饮品和甜点部轮换工作
- B. 邮政部门的员工从原来只专门分捡邮件增加到负责分送到各邮政部门
- C. 在某传输数据系统公司，员工可以经常提出自己喜欢的工作并随后转入新的岗位
- D. 在一家研究所，一个部门主管告诉她的下属，只要在预算内并且合法，他们就可以做想做的任何研究

67. 暴力慈善：是一种慈善的暴力行为，以牺牲受赠人的尊严来获得自己的满足。暴力慈善是对高调行善行事方式的一种概括。

根据上述定义，下列现象不属于暴力慈善的是 ()

- A. 向每名受赠者鞠躬送现金红包
- B. 公司领导以命令的方式要去员工捐款
- C. 敲锣打鼓向养老院送现金红包
- D. 用巨额捐款现金垒成人民币墙并进行展示

沙坪坝沙龙汇文化广场三楼(小龙坎地铁站1号出口前行100米)

68.生态移民：是指为了保护某个地区特殊的生态或让某个地区的生态得到修复而进行的移民，也指因自然环境恶劣，不具备就地扶贫的条件而将当地人整体迁出的移民。

根据上述定义，下列属于生态移民的是（）

- A.贵州省某山区因土地出现石质化现象。该地区村民被迁往他乡
- B.某村落位于山谷中，交通十分不便，为更快致富，村民集体研究决定移居山外
- C.张三的父母家住三峡库区，由于修水库，其父母将家产变卖，来到上海与张三一起居住
- D.几百年前，中原一带的居民为躲避战争，整体迁到南方，成为客家人

69.水平一体化物流：是指同一行业的多个企业，通过共同利用物流渠道，获得规模经济效益，提高物流效率。水平一体化物流须具备物流需求和物流供应的信息平台，要有大量企业参与并存在较多的商品量。

根据上述定义，下列属于水平一体化物流的是（）

- A.某市屠宰企业将猪、牛肉混放入冷藏车并送往一百多家零售店
- B.某百货公司设立物流中心，统筹安排全公司各类货物发送工作
- C.某家具厂要求原料供应商和产品销售商使用同一家物流公司
- D.电子城百家商店签订协议，制定其中一家承担电子城送货业务

70.顶层设计：是指统筹考虑系统各层次和各要素，追根溯源，统揽全局，在最高层次上寻求问题的系统性解决之道。

根据上述定义，下列选项**不符合**顶层设计的是（）。

- A.某岛屿具有不冻不淤的深水港口和沙白滩阔等条件，辖区政府为利用好这些资源，组织海内外专家研究岛屿开发方案
- B.某市政府在有关园林绿化决策执行效果的检查过程中发现问题，有关领导指示对北区绿化方案进行优化
- C.软件公司在开发大型软件时，就软件的框架召集专家进行论证，在充分吸收专家意见的基础上，确立了软件的设计思路
- D.某公司董事会就公司扩大经营范围，在海外收购项目等问题召集相关专家起草方案，在论证之后董事会进行表决

三、逻辑推理：每题先给出一段陈述，这段陈述被假设是正确的，不容置疑的。然后分别列出四种情况，要求你根据这段陈述，选出一个与所给的陈述最相符的答案。本部分共10题，每题1分。

71.生活应该是一系列冒险，它很有乐趣，偶尔让人感到兴奋，有时却好像是通向不可预知未来的痛苦旅程。当你试图以一种创造性的方式生活时，即使你身处沙漠中，也会遇到灵感之井、妙想之泉，它们却不是能事先拥有的。

下面哪一选项所强调的意思与题干的主旨相同？（）

- A.机遇只偏爱有准备的头脑

沙坪坝沙龙汇文化广场三楼(小龙坎地铁站 1 号出口前行 100 米)

- B.习惯是人生伟大指南
- C.观念的改变损失最小，成就最大
- D.假如我知道写诗的结果，我就不会开始写诗

72.这里有一个控制农业杂草的新办法，它不是用合成的那种能杀死特殊野草而对谷物无害的除草剂，而是用对所有植物都有效的除草剂，同时运用特别的基因工程使谷物对这种除草剂具有免疫力。

以下哪项如果为真，对上文提出的新办法的实施构成了最严重的障碍？（ ）

- A. 最新的研究表明，进行基因重组并非像想象的那样可以使农作物中的营养成分有所提高
- B. 对某些特定种类的杂草有效的除草剂，施用后两年内会阻碍某些作物的生长
- C. 虽然基因的重组使单独的谷物植株免受万能除草剂的影响，但这些作物产出的种子却由于万能除草剂的影响而不能再发芽
- D. 大部分只能除掉少数特定杂草的除草剂含有的有效成分对家禽、家畜及野生动物有害

73.某工厂实验室对 3 种产品 A、B、C 进行撞击和拉伸测试，能通过这两种测试就是合格品。结果有两种产品通过撞击测试，有两种产品通过了拉伸测试。根据上述测试结果，以下哪项一定为真？

- A.产品 A 是合格品
- B.至少有一种产品是合格品
- C.有两种产品是合格品
- D.有可能 3 种产品都不是合格品

74.一项研究报告表明，随着经济的发展和改革开放，我国与种植、养殖有关的单位几乎都从外国引进物种的项目。不过，我国华东等地作为饲料引进的空心莲子草，沿海省区为护滩引进的大米草等，很快蔓延疯长，侵入草地、林区和荒地，形成单种优势群落，导致原有的植物群落的衰退。新疆引进的意大利黑蜂迅速扩散到野外，使原有的优良蜂种伊犁黑蜂几乎灭绝，因此（ ）

- A.应该设法控制空心莲子草、大米草等植物的蔓延
- B.引进国外物种可能会对我国的生物多样性造成巨大危害
- C.我国多个省、市、自治区都有外来物种
- D.从国外引进外来无种是为了提高经济效益

75.信贷消费在一些经济发达国家十分盛行，很多消费者通过预支他们尚未到手的收入满足对住房、汽车、家用电器等耐用消费品的需求，在消费信贷发达的国家中，人们普遍观念是：不能负债说明你的信誉差。

如果上述论述为真，那么必须以下列哪项为前提？（ ）

- A.消费信贷于国于民，国家可利用利率下调刺激消费者购买商品
- B.社会已建立起完备、严密的信用网络，银行可对信贷者的经济状况进行查询和监督
- C.保险公司可向借贷人提供保险，以保障银行资产的安全
- D.在发达国家，消费信贷已成为商业银行扩大经营。加强竞争的重要手段

76.对那些最先给封建主义定义的作家来说，封建主义的存在也就预先假定了贵族阶级的存在。然而正确的说来，贵族阶级是不可能存在的。除非那些表明较高的贵族地位的头衔和这些头衔的继承权被法律所认可。尽管封建主义早在 8 世纪时就已经存在，但是直到 12 世纪，当许多封建机构处于衰落时，法律上承认的世袭贵族头衔才第一次出现。

题干描述最有可能支持以下哪项结论（）

- A.认为从封建主义定义上讲要求贵族阶级的存在就是在使用一个歪曲历史的定义
- B.某个社会团体具有与众不同的法律地位的事实本身并不足以说明这个团体可被合情合理地认为是一个社会阶层
- C.12 世纪之前，欧洲的封建制度与机构是在没有统治阶级存在的情况下运行的
- D.按照贵族阶级这一词的最严格的定义来讲，先前的封建机构的存在是贵族阶级出现的先决条件

77.疲劳驾驶是造成交通事故的重要原因之一，很多火车司机经常连续驾驶超过 8 个小时，因此交警在一些高速公路收费站设置检查站点，检查货车司机的疲劳状态，以减少货车司机疲劳驾驶的情况。

以下选项如果为真，不能支持交警的这一做法的理由是（）

- A.一些货车司机会通过提前在服务站休息后再驾驶来应对交警的检查
- B.一些货车司机会选择抽烟或找人聊天的方式驱除疲劳
- C.货车司机身体的疲劳状态不一定是他连续驾驶时间的反映
- D.人体的疲劳状态很难有一个确切的评价和对比指标

78.在频繁的使用几星期后，吉他琴弦经常会“死掉”，即反应更加迟钝，音调不那么响亮。一个职业为古典吉他演奏家的研究人员提出一个假想，认为这是由脏东西和油，而不是琴弦材料性质的改变而导致的结果。

以下哪一项调查最有可能得出有助于评价该研究人员假想的信息？（）

- A.确定一根死掉的弦和一根新弦是否会产生不同音质的声音
- B.确定古典吉他演奏家使他们的琴弦死掉的速度是否比通俗吉他演奏家快
- C.确定把相同的标准长度相等的琴弦，安在不同品牌的吉他上，是否以不同的速度死掉
- D.确定在新吉他弦上抹上不同的物质是否能使它们死掉

79.按照我国城市当前水消费量来计算，如果每吨水增收 5 分钱的水费，则每年可增加 25 亿元的收入。这显然是解决自来水公司年年亏损问题的好办法。这样还可以减少消费者对水的需求，养成节约用水的良好习惯。从而保护我国非常短缺的水资源。

以下哪一项最清楚的指出了上述论证的错误？（）

沙坪坝沙龙汇文化广场三楼(小龙坎地铁站1号出口前行100米)

- A.作者错把结果当成了原因
- B.作者引用了无关的数据和材料
- C.作者作出了相互矛盾的假定
- D.作者所依据的我国城市当前水消费量的数据不准确

80.甲认为：快速而精确地处理订单的程序有助于我们的交易。为了增加利润，我们应该运用电子程序而不是手工操作，运用电子程序，客户的订单就会直接进入所相关的队列之中。

乙认为：如果我们启用电子订单程序，我们的收入将会减少。很多人在下订单时更愿意与人打交道。如果我们转换成电子订单程序，我们的交易会看起来冷漠而且非人性化，我们吸引的顾客就会减少。

甲和乙的意见分歧在于：（）

- A.更快且更精确的订单程序是否会有益于他们的财政收益
- B.对多数顾客而言，电子订单程序是否真的显得冷漠和非人性化
- C.电子订单程序是否比手工订单程序更快、更精确
- D.改用电子订单程序是否会有益于他们的财政收益

四.类比推理。每道题先给出一组相关的词，要求你在备选答案后找出一组逻辑关系上最贴近、相似或匹配的词。本部分共10题，每题1分。

81.科学家：院士

- A.长江：黄河
- B.袋鼠：老鼠
- C.大学生：军人
- D.跑步：散步

82.氧气：生命

- A.灯光：黑暗
- B.震动：声音
- C.努力：成功
- D.烛光：浪漫

83.陡峭：山峰

- A.俭朴：生活
- B.精炼：态度
- C.滥用：药物
- D.闪耀：光芒

84.歧视：自卑

- A.调查：发现
- B.差距：落后
- C.惊吓：害怕
- D.分歧：谈判

沙坪坝沙龙汇文化广场三楼(小龙坎地铁站1号出口前行100米)

85.马匹：驰骋

A.干扰：红外线

B.狮子：吼叫

C.论文：质量

D.消化：排泄

86.章程：选举

A.文章：阅读

B.素描：画画

C.规则：比赛

D.法规：执法

87.金属：导电

A.冬天：严寒

B.年轻：激情

C.黄色：收获

D.液体：流动

88.培养对于（ ）相当于（ ）对于成绩

A.能力提高

B.培育分数

C.兴趣获得

D.提高绩效

89.锁具：保安员：安全

A.日月：星辰：光明

B.航母：导弹：战争

C.手镯：项链：美观

D.画框：纽扣：装饰

90.侦查：线索：案件

A.定位：地点：地图

B.搜索：关键词：网页

C.评价：排行榜：歌手

D.导航：GPS：汽车

※※※第四部分结束，请继续做第五部分！※※※

第五部分 资料分析

(共10题, 参考时限10分钟)

所给的图、表、文字或综合性资料均有若干问题要你回答。你应根据资料提供的信息进行分析、比较、计算和判断处理。本部分共10题, 每题1分。

请开始答题:

一、根据以下材料, 回答91~95题:

虽然受到国家对一些投资过热的重点行业实行严格控制的影响, 但由于国家对西部农业、能源、交通、水利以及教育、卫生等社会事业的支持与投入继续加大, 同时西部各省区市也加大了地方投资力度, 西部地区2014年的固定资产投资继续保持较高的增长速度。全年完成固定资产投资(不含农村和城乡个体投资, 下同)125980亿元, 同比增长17.5%, 增速同比回落5.5个百分点。

在西部各省区市中, 固定资产投资总量最多的是四川省, 共完成投资24692.08亿元, 占西部投资总量的19.6%; 其次是内蒙古, 共完成投资17763.18亿元, 占西部的14.1%; 重庆完成投资15117.6亿元, 占西部投资总量的12.0%, 排在第三位。

除新疆、贵州和甘肃外, 西部其他地区2014年固定资产投资增长速度都在20%以上, 内蒙古、重庆的固定资产投资增幅超过30%, 分别比上年增长53%和41.3%, 分列西部投资增幅的前两位; 广西和云南的固定资产增长速度均为29.0%, 并列居于西部第三位。

91. 西部地区2013年固定资产投资额约为()亿元

- A.121291.39 B.112377.76 C.145603.50 D.107217.02

92. 西部地区, 2014年固定资产投资总量位居第二位的是()

- A.四川 B.重庆 C.内蒙古 D.广西

93. 假设按照现在的增长趋势, 重庆2015年固定资产投资额约为()亿元

- A.21361 B.19780 C.20990 D.22470

94. 内蒙古自治区2013年固定资产投资额约占西部投资总量的()

- A.9% B.11% C.15% D.18%

95. 能够从上述材料反映出的是()

- A.重庆和云南2014年固定资产投资总量及增长速度并列居于西部第三位
B.甘肃省2014年社会固定资产投资增幅位列西部地区倒数第一位
C.2013年西部地区某些行业出现投资过热现象
D.四川省2014年社会固定资产投资总额及增幅均居西部地区第一

沙坪坝沙龙汇文化广场三楼(小龙坎地铁站1号出口前行100米)

二、根据下面资料，回答地96-100题：

2014年年末，A市规模以上工业企业2087户，全年实现工业增加值1653.54亿元，比上年增长17.4%，其中，轻工业增加值653.28亿元，增长16.5%；重工业增加值1000.26亿元，增长18%，战略性新兴产业完成产值1598.74亿元，比上年增长24.6%。

规模意以上工业主管业务收入6002.74亿元，比上年增长28.6%；利润总额358.55亿元，增长22.7%；亏损企业额15.46亿元，下降35.1%。电气机械和器材制造业、通用设备制造业、专用设备制造业、金属制品业、汽车制造业等11个行业利润均超过10亿元，累计实现利润285.26亿元。

A市36个工业增加值全部实现增长，六大主导产业实现增加值951.60亿元，比上年增长15.9%，全年规模以上工业出口交货值419.79亿元，比上年下降1.9%。

2014年A市六大主导产业增加值及其增长速度 单位：亿元

指标	绝对数	比上年增长%
六大主导产业	951.60	15.9
汽车	145.78	3.2
装备制造	288.84	19.7
家用电器	298.86	12.5
食品及农副产品加工	154.46	20.2
新型平板显示	33.96	44.2
新能源及光伏	29.71	41.3

96.2014年，A市战略性新兴产业完成产值比上年增长约（）亿元。

A.315.64 B.364.76 C.378.42 D.389.23

97.2013年，A市重工业增加值占全年工业增加值的比重约为（）。

A.39.5% B.39.8% C.60.2% D.60.5%

98.2013年，六大主导产业中增加值最多的产业的增加值比最少的多（）倍。

A.9.2 B.10.2 C.11.6 D.12.6

99.2013年，A市亏损企业亏损额为（）亿元。

A.11.4 B.13.9 C.23.8 D.27.6

100.根据上述资料，下列表述不正确的是（）。

A.2014年，A市六大主导产业中，增加值同比增速高于六大主导产业平均增速的有4个

B.2014年，A市六大主导产业中，增加值占比较上年同期有所下降的有2个

C.2013年，A市规模以上工业出口交货值约为412亿元

D.2014年A市11个利润均超过10亿元的行业，其利润额占规模以上工业企业利润总额的比重接近80%。

*** 全部测验到此结束! ***